

Министерство общего и профессионального образования Свердловской области  
государственное автономное профессиональное образовательное учреждение  
Свердловской области  
**«Ирбитский мотоциклетный техникум»**  
**(ГАПОУ СО «ИМТ»)**

**МЕТОДИЧЕСКИЕ РЕКОМЕНДАЦИИ**  
**по выполнению практических работ**  
по дисциплине **ОП. 06 ПРАВИЛА БЕЗОПАСНОСТИ ДОРОЖНОГО ДВИЖЕНИЯ**  
**ПО СПЕЦИАЛЬНОСТИ**  
**23.02.03 ТЕХНИЧЕСКОЕ ОБСЛУЖИВАНИЕ И РЕМОНТ АВТОМОБИЛЬНОГО**  
**ТРАНСПОРТА**

Составитель: \_\_\_\_\_ (Яковлев А.Г.), преподаватель ГАПОУ СО «ИМТ»

Методические рекомендации по выполнению практических работ студентов составлены в соответствии с рабочей программой дисциплины, разработанной на основе Федерального государственного образовательного стандарта среднего профессионального образования по специальности 23.02.03 Техническое обслуживание и ремонт автомобильного транспорта, утвержденного приказом Министерства образования и науки Российской Федерации от 22 апреля 2014 г. № 383.

## Содержание

1. Пояснительная записка .....	4
2. Практические работы .....	7
3. Учебно-методическое и информационное обеспечение .....	119

## 1. ПОЯСНИТЕЛЬНАЯ ЗАПИСКА

Данные методические указания предназначены для закрепления теоретических знаний и приобретения необходимых практических навыков и умений по программе подготовки специалистов среднего звена дисциплины Правила безопасности дорожного движения для специальности 23.02.03 Техническое обслуживание и ремонт автомобильного транспорта.

В системе работы по восприятию и усвоению нового материала обучающимися широкое применение находит метод практических работ.

Практическая работа - это такой метод обучения, при котором студенты под руководством преподавателя и по заранее намеченному плану выполняют определенные практические задания и в процессе их воспринимают и осмысливают новый учебный материал.

Проведение практических работ с целью осмысления нового учебного материала включает в себя следующие методические приемы:

- 1) постановку темы занятий и определение задач практической работы;
- 2) определение порядка практической работы или отдельных ее этапов;
- 3) непосредственное выполнение практической работы обучающимися и контроль преподавателя за ходом занятий и соблюдением техники безопасности;
- 4) подведение итогов практической работы и формулирование основных выводов.

Изложенное показывает, что практические работы как метод обучения во многом носят исследовательский характер, и в этом смысле высоко оцениваются в дидактике. Они пробуждают у студентов глубокий интерес к окружающей природе, стремление осмыслить, изучить окружающие явления, применять добытые знания к решению и практических, и теоретических проблем. Метод этот воспитывает добросовестность в выводах, трезвость мысли. Практические работы способствуют ознакомлению студентов с научными основами современного производства, выработке навыков обращения со справочной литературой, создавая предпосылки для технического обучения.

Одной из целей технического образования является развитие у студентов преобразующего мышления и творческих способностей, реализовать которые можно, используя метод проектов, где студенты включаются в творческую деятельность.

Практические занятия служат своеобразной формой осуществления связи теории с практикой. Структура практических занятий в основном одинакова — вступление преподавателя, вопросы студентов по материалу, который требует дополнительных разъяснений, собственно практическая часть, заключительное слово преподавателя. Разнообразие возникает в основной, собственно практической части, включающей рефераты, доклады, дискуссии, тренировочные упражнения, решение задач, наблюдения, эксперименты и т. д. Опыт показывает, что нельзя на практических занятиях ограничиваться выработкой только практических навыков, техникой решения задач, построения графиков и т. п. Студенты должны всегда видеть ведущую идею курса и связь ее с практикой. Цель занятий должна быть понятна не только преподавателю, но и студентам. Это придает учебной работе жизненный характер, утверждает необходимость овладения опытом профессиональной деятельности, связывает их с практикой жизни.

Студенты, как правило, отдают себе отчет в том, в какой мере им необходимы данные практические занятия для предстоящей профессиональной деятельности. Если студенты поймут, что все учебные возможности занятий исчерпаны, интерес к ним будет утрачен. Учитывая этот психологический момент, очень важно организовать занятия так, чтобы студенты постоянно ощущали рост сложности выполняемых заданий, что ведет к переживанию собственного успеха в учении и положительно мотивирует студента. Если же студенты замечают «топтание на месте», уровень мотивации может заметно снизиться.

Преподаватель проводит занятия так, чтобы все студенты были заняты напряженной творческой работой, поисками правильных и точных решений. Каждый студент должен получить возможность «раскрыться», проявить способности, поэтому при разработке плана занятий и индивидуальных заданий преподаватель должен учитывать подготовку и интересы каждого студента. Преподаватель при этом будет выступать в роли консультанта, наблюдающего за работой каждого студента и способного вовремя оказывать педагогически оправданную помощь, не подавляя само-



стоятельности и инициативы студента. При такой организации проведения занятий в аудитории не возникает мысли о том, что возможности занятий исчерпаны.

Самым распространенным среди практических методов является упражнение. Они бывают:

- интеллектуальными;
- общенаучными;
- профессиональными;
- производственными.

По степени самостоятельности упражнения бывают:

- воспроизводящими - учащиеся лишь воспроизводят объясненный преподавателем теоретический материал и практические действия;
- тренировочными - закрепление и углубление знаний путем применения их в новых условиях и формирование всех видов умений;
- творческими - требующими самостоятельных формулировок и выводов решения и рассмотрения вопросов.

Задачами выполнения практической работы студента являются:

- систематизация и закрепление полученных теоретических знаний;
- углубление и расширение теоретических знаний;
- формирование умений использовать нормативную, правовую, справочную документацию и специальную литературу;
- развитие познавательных способностей и активности студентов: творческой инициативы, самостоятельности, ответственности и организованности;
- формирование самостоятельности мышления, способностей к саморазвитию, самосовершенствованию и самореализации;
- развитие исследовательских умений;

В ходе выполнения практических работ по Метрологии, стандартизации и у студентов формируются следующие общие и профессиональные компетенции:

ОК 1. Понимать сущность и социальную значимость своей будущей профессии, проявлять к ней устойчивый интерес.

ОК 2. Организовывать собственную деятельность, выбирать типовые методы и способы выполнения профессиональных задач, оценивать их эффективность и качество.

ОК 3. Принимать решения в стандартных и нестандартных ситуациях и нести за них ответственность.

ОК 4. Осуществлять поиск и использование информации, необходимой для эффективного выполнения профессиональных задач, профессионального и личностного развития.

ОК 5. Использовать информационно-коммуникационные технологии в профессиональной деятельности.

ОК 6. Работать в коллективе и команде, эффективно общаться с коллегами, руководством, потребителями.

ОК 7. Брать на себя ответственность за работу членов команды (подчиненных), результат выполнения заданий.

ОК 8. Самостоятельно определять задачи профессионального и личностного развития, заниматься самообразованием, осознанно планировать повышение квалификации.

ОК 9. Ориентироваться в условиях частой смены технологий в профессиональной деятельности.

Профессиональных (ПК), т. е. техник по специальности 23.02.03 Техническое обслуживание и ремонт автомобильного транспорта должен обладать профессиональными компетенциями, соответствующими основным видам деятельности (ВД):

ВД 1. Техническое обслуживание и ремонт автотранспорта:

ПК 1.1. Организовывать и проводить работы по техническому обслуживанию и ремонту автотранспорта.

ПК 1.2. Осуществлять технический контроль при хранении, эксплуатации, техническом обслуживании и ремонте автотранспортных средств.

ПК 1.3. Разрабатывать технологические процессы ремонта узлов и деталей.

ВД 2. Организация деятельности коллектива исполнителей:

ПК 2.2. Контролировать и оценивать качество работы исполнителей работ.

ПК 2.3. Организовывать безопасное ведение работ при техническом обслуживании и ремонте автотранспорта.

### **Правила выполнения практических работ.**

1. Студент должен придти на практическое занятие подготовленным к выполнению практической работы.
2. Каждый студент после проведения работы должен представить отчет о проделанной работе с анализом полученных результатов и выводом по работе.
3. Отчет о проделанной работе следует выполнять на листах формата А4 с одной стороны листа. Содержание отчета указано в описании практической работы.
4. Таблицы и рисунки следует выполнять с помощью чертежных инструментов (линейки, циркуля, и.т.д.) карандашом с соблюдением ЕСКД.
5. В заголовках граф таблиц обязательно приводить буквенные обозначения в соответствии с ЕСКД.
6. Расчет следует проводить с точностью до двух значащих цифр.
7. Исправления проводить на обратной стороне листа. При мелких исправлениях неправильное слово (буква, число и т.п.) аккуратно зачеркивается и над ним пишут правильное пропущенное слово (букву, число и т.п.).
8. Вспомогательные расчеты можно выполнять на отдельных листах, а при необходимости на листах отчета.
9. Если студент не выполнит практическую работу или часть работы, то он выполнит ее во внеурочное время, согласованное с преподавателем.
10. Оценку по практической работе студент получает с учетом срока выполнения работы, если;
  - расчеты выполнены правильно и в полном объеме;
  - сделан анализ проделанной работы и вывод по результатам работы;
  - студент может пояснить выполнение любого этапа работы;
  - отчет выполнен в соответствии с требованиями к выполнению работы.

Зачет по практическим работам студент получает при условии выполнения всех предусмотренных программой работ после сдачи отчетов по работам при удовлетворительных оценках за ответы на контрольные вопросы во время практических работ или при получении зачёта.

Все практические работы заключаются в решении ситуационных задач по Правилам дорожного движения. Студент не только должен дать правильный ответ на ситуационную задачу, но и пояснить к какому разделу, пункту Правил дорожного движения она относится.

## ПРАКТИЧЕСКАЯ РАБОТА №1

### Предупреждающие знаки

#### Вопрос 1



Разрешён ли Вам съезд на дорогу с грунтовым покрытием?

1. Да.
2. Нет.

#### Вопрос 2



На каком расстоянии до скользкого участка дороги устанавливается этот знак в населённом пункте?

1. 150 – 300 м.
2. 50 – 100 м.
3. Непосредственно перед началом скользкого участка.

#### Вопрос 3



На каком расстоянии до неровного участка дороги устанавливается этот знак вне населённого пункта?

1. 150 – 300 м.
2. 50 – 100 м.
3. Непосредственно перед неровным участком дороги.

#### Вопрос 4



Этот дорожный знак:

1. Предупреждает о приближении к месту пересечения с трамвайной линией.
2. Предупреждает о приближении к трамвайной остановке.
3. Обязывает Вас остановиться непосредственно перед



пресечением с трамвайной линией.

### Вопрос 5



Этот дорожный знак предупреждает Вас:

1. О приближении к скользкому участку дороги.
2. О приближении к мокрому и загрязнённому участку дороги.
3. О приближении к участку дороги, где возможен выброс щебня из-под колёс.

### Вопрос 6



Это дорожный знак предупреждает Вас:

1. О приближении к пешеходному переходу, на котором возможно частое появление велосипедистов.
2. О приближении к пересечению с велосипедной дорожкой.
3. О приближении к месту, где Вы должны уступить дорогу велосипедистам.

### Вопрос 7



Знак предупреждает Вас о приближении к тоннелю, в котором:

1. Будет затруднён разъезд со встречными транспортными средствами.
2. Отсутствует искусственное освещение.
3. Очередность движения регулируется светофором.

### Вопрос 8



Эти знаки предупреждают Вас о том, что:

1. Остановка транспортных средств на обочине запрещена.
2. Съезд на обочину опасен в связи с проведением на ней ремонтных работ.



3. Остановка разрешена только на проезжей части.

### Вопрос 9



**Знаки предупреждают Вас о том, что:**

1. На протяжении 150 м возможно появление пешеходов.
2. Через 150 м на Вашем пути будет нерегулируемый пешеходный переход.

### Вопрос 10



**Эти знаки предупреждают Вас:**

1. О наличии через 500 м опасных поворотов.
2. О том, что на расстоянии 150 – 300 м за дорожным знаком начнётся участок дороги протяжённостью 500 м с опасными поворотами.
3. О том, что сразу за знаком начнётся участок дороги протяжённостью 500 м с опасными поворотами.

### Вопрос 11



**Эти знаки предупреждают Вас о приближении:**

1. К месту производства работ на дорогах.
2. К железнодорожному переезду со шлагбаумом.
3. К железнодорожному переезду без шлагбаума.

### Вопрос 12



**Эти знаки предупреждают Вас:**

1. О приближении к железнодорожному переезду с тремя путями.

2. О наличии через 150 – 300 м железнодорожного переезда без шлагбаума.
3. О наличии через 50 – 100 м железнодорожного переезда.

### Вопрос 13



Какие знаки устанавливают непосредственно перед железнодорожным переездом?

1. Только А.
2. Только Б.
3. Только В.
4. А или В.

### Вопрос 14



Этот знак:

1. Показывает направление движения на перекрёстке.
2. Указывает, что на пересекаемой дороге движение осуществляется по двум полосам.



## ПРАКТИЧЕСКАЯ РАБОТА №2

### Знаки приоритета

#### Вопрос 1



В каком месте Вы должны остановиться?

1. Перед знаком (А).
2. Перед перекрестком (Б).
3. Перед краем пересекаемой проезжей части (В).

#### Вопрос 2



О чём информирую Вас эти дорожные знаки?

1. О приближении к перекрёстку, где установлен знак «Уступите дорогу».
2. О приближении к перекрёстку, где установлено движение без остановки запрещено.
3. О приближении к таможне.

#### Вопрос 3



А



Б



В

Какие знаки предоставляют Вам преимущество при проезде нерегулируемых перекрёстков?

1. Только А.
2. А и В.
3. Все.

#### Вопрос 4



Можете ли Вы въехать на мост первым?

1. Да.
2. Нет.

### Вопрос 5



Этот дорожный знак:

1. Предупреждает о наличии узкого участка дороги, но не устанавливает очерёдность движения.
2. Запрещает проезд через мост.
3. Обязывает уступить дорогу встречному транспортному средству.

### Вопрос 6



Разрешено ли Вам въехать на мост одновременно с мотоциклистом, если Вы не затрудните ему движение?

1. Да.
2. Нет.



## ПРАКТИЧЕСКАЯ РАБОТА №3

### Запрещающие знаки

#### Вопрос 1



А



Б



В

Требования каких знаков вступают в силу непосредственно в том месте, где они установлены?

1. Только А и Б.
2. Только Б.
3. Всех.

#### Вопрос 2



Разрешено ли Вам поставить автомобиль на стоянку за путепроводом?

1. Да.
2. Нет.

#### Вопрос 3



Разрешена ли Вам стоянка в указанном месте?

1. Да.
2. Нет.

#### Вопрос 4



В каком из указанных мест Вы можете поставить автомобиль на стоянку?

1. Только А.
2. Только Б.
3. Ни в каком.

### Вопрос 5



Какие требования предъявляют к вам эти дорожные знаки?

1. Снизить скорость при проезде таможни.
2. Остановиться через 300 м у таможни.
3. Остановиться у знака и дождаться работников таможенной службы.

### Вопрос 6



Эти знаки обязывают Вас соблюдать дистанцию:

1. Менее 70 м на протяжении 100 м.
2. Более 70 м на протяжении 100 м.
3. От 70 до 100 м.

### Вопрос 7



Разрешена ли Вам стоянка в указанном месте?

1. Разрешена.
2. Разрешена, но только в светлое время суток.
3. Запрещена.

### Вопрос 8



А



Б



В

Какие знаки разрешают Вам проезд на автомобиле к месту проживания?

1. Только А.
2. Только В.
3. Только А и В.
4. Все.

Вопрос 9



А



Б



В

Какой знак запрещает дальнейшее движение всех без исключения транспортных средств?

1. А.
2. Б.
3. В.

Вопрос 10



А



Б



В



Г

Действие каких знаков не распространяются на транспортные средства, управляемые инвалидами 1-ой и 2-ой групп или перевозящие таких инвалидов?

1. Только А и Б.
2. Только Б и Г.
3. Только Б, В и Г.

4. Всех.

Вопрос 11



А



Б



В



Г

Какой из знаков отменяет все ограничения, введённые ранее запрещающими знаками?

1. Только А и Б.
2. Только В и Г.
3. Только В.
4. Все.

Вопрос 12



Разрешено ли Вам при управлении легковым автомобилем с прицепом продолжить движение в прямом направлении?

1. Разрешено.
2. Разрешено, если Вы проживаете в зоне действия знака.
3. Запрещено.



### Вопрос 13



В каком направлении можно продолжить буксировку?

1. Только А.
2. Только Б.
3. В обоих.

### Вопрос 14



В каких направлениях Вам разрешено продолжить движение на перекрёстке?

1. Только В.
2. Только А или В.
3. Во всех, кроме Г.

### Вопрос 15



В каких направлениях Вам разрешается продолжить движение?

1. Только прямо.
2. Прямо или в обратном направлении.
3. Во всех направлениях.

### Вопрос 16



Разрешён ли Вам обгон?

1. Разрешён.
2. Запрещён, если скорость мотоцикла более 30 км/ч.
3. Запрещён.

### Вопрос 17



В каких случаях Вам разрешается использовать звуковой сигнал в зоне действия этого знака?

1. Только для предупреждения об обгоне.
2. Только для предотвращения дорожно-транспортного происшествия.
3. В обоих перечисленных случаях.

### Вопрос 18



Этот дорожный знак:

1. Рекомендует двигаться со скоростью 40 км/ч.
2. Требует двигаться со скоростью не менее 40 км/ч.
3. Запрещает движение со скоростью более 40 км/ч.

### Вопрос 19



С какой скоростью Вы можете двигаться на грузовом автомобиле с разрешённой максимальной массой не более 3,5 т?

1. Не более 50 км/ч.
2. Не более 70 км/ч.
3. Не более 90 км/ч.

### Вопрос 20



С какой скоростью Вы можете двигаться на грузовом автомобиле с разрешённой максимальной массой не более 3,5 т?

1. Не более 50 км/ч.
2. Не более 70 км/ч.
3. Не более 80 км/ч.



### Вопрос 21



Разрешается ли Вам осуществить посадку (высадку) пассажиров либо загрузку (разгрузку) транспортного средства в зоне действия этого знака?

1. Да, если это займёт не более 5 мин.
2. Да, даже если остановка продлится более 5 мин.
3. Нет.

### Вопрос 22



Каким транспортным средствам разрешена остановка в зоне действия знака?

1. Только маршрутным транспортным средствам.
2. Только такси с включённым таксометром.
3. Только автомобилям, управляемым инвалидами 1-ой или 2-ой групп или перевозящим таких инвалидов.

### Вопрос 23



Каким транспортным средствам разрешена остановка в зоне действия знака?

1. Только такси с включённым таксометром.
2. Только автомобилям, на которых установлен опознавательный знак «Инвалид».
3. Всем перечисленным транспортным средствам.

### Вопрос 24



Разрешено ли Вам поставить автомобиль на стоянку в указанном месте?

1. Разрешено.
2. Разрешено, если Вы проживаете рядом с этим местом.
3. Запрещено.

### Вопрос 25



Разрешается ли Вам произвести остановку в указанном месте?

1. Да.
2. Нет.

### Вопрос 26



Разрешено ли Вам поставить автомобиль на стоянку в указанном месте по нечётным числам месяца?

1. Разрешено.
2. Разрешено только после 19 ч.
3. Запрещено.

### Вопрос 27



Разрешено ли Вам поставить автомобиль на стоянку в указанном месте по чётным числам месяца?

1. Разрешено.
2. Разрешено только после 19 ч.
3. Запрещено.

### Вопрос 28



Разрешено ли Вам произвести остановку для посадки пассажира?

1. Разрешено.
2. Разрешено только по чётным числам месяца.
3. Разрешено только по нечётным числам месяца.
4. Не разрешено.



## ПРАКТИЧЕСКАЯ РАБОТА №4

### Предписывающие знаки Вопрос 1




Как следует поступить, если Вам необходимо развернуться?

1. Развернуться на этом перекрестке при отсутствии на нём других транспортных средств.
2. Проехать прямо и развернуться за перекрёстком.
3. Проехать прямо и развернуться

только на следующем перекрёстке.

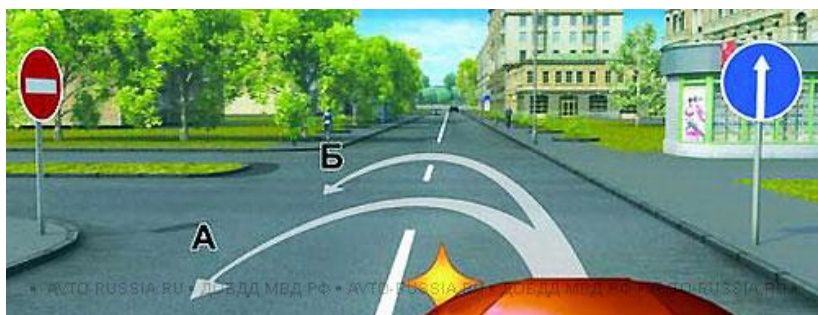
### Вопрос 2



В каких направлениях Вам разрешено продолжить движение на перекрестке.

1. Только Б.
2. Б или В.
3. А или Б.

### Вопрос 3



По какой траектории Вы можете выполнить разворот?

1. Только по А.
2. Только по Б.
3. По любой

### Вопрос 4



В каких направлениях Вам разрешено продолжить движение на перекрестке?

1. Только прямо.
2. Прямо или налево.
3. Прямо или в обратном направлении.




### Вопрос 5



По какой траектории Вы можете продолжить движение?

1. Только по А.
2. Только по Б.
3. По любой.

### Вопрос 6



В каких из указанных направлений Вы можете продолжить движение на следующем перекрёстке?

1. Только Б.
2. А или Б.
3. Во всех.

### Вопрос 7



В какой из дворов вы можете въехать в данной ситуации?

1. Только во двор налево.
2. Только во двор направо.
3. В любой.
4. Повороты во дворы запрещены

### Вопрос 8



Разрешено ли Вам за перекрёстком въехать во двор?

1. Да.
2. Нет.
3. Да, только если Вы проживаете в этом доме.

### Вопрос 9



В каких направлениях Вам разрешено продолжить движение?

1. Только Б.
2. Только А или Б.
3. В любых.


### Вопрос 10



Разрешён ли Вам разворот в указанном месте?

1. Разрешён.
2. Не разрешён.

### Вопрос 11



В каких направлениях Вам разрешено продолжить движение?

1. Только Б.
2. А или Б.
3. Б или В.

### Вопрос 12



В чём особенность скоростного режима на этом участке дороги?

1. Минимальная допустимая скорость движения на этой дороге – 50 км /ч.
2. Рекомендуемая скорость движения на этой дороге – 50 км /ч.
3. Минимальная допустимая скорость движения по левой полосе 50 км/ч.



### Вопрос 13



В каких направлениях Вам разрешено продолжить движение на легковом автомобиле?

1. Только прямо.
2. Только налево или направо.
3. В любых.

### Вопрос 14



В каких направлениях Вам разрешено продолжить движение на грузовом автомобиле с разрешённой максимальной массой 3 т?

1. Только прямо.
2. Только налево или направо.
3. В любых

## Знаки особых предписаний

### Вопрос 1



Двигаясь по средней полосе на легковом автомобиле, Вы можете продолжить движение:

1. Только прямо.
2. Только прямо или налево.
3. Только прямо, налево или в обратном направлении.

### Вопрос 2



Двигаясь по крайней левой полосе, Вы можете продолжить движение:

1. Только налево.
2. Только в обратном направлении.
3. Налево или в обратном направлении.

### Вопрос 3



В каких направлениях Вы можете продолжить движение по крайней левой полосе на легковом автомобиле?

1. Только налево.
2. Только прямо или налево.
3. Прямо, налево или в обратном на-

правлении.

### Вопрос 4



В каких направлениях Вам разрешено продолжить движение?

1. Только Б.
2. Только А или Б.
3. Только Б или В.
4. Во всех из указанных

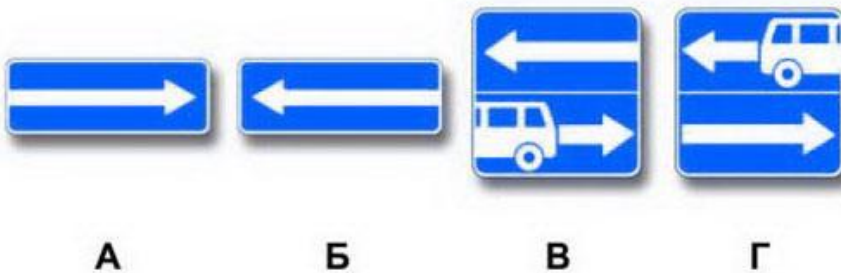
### Вопрос 5



В каких направлениях Вам разрешено продолжить движение на перекрёстке?

1. Только налево и в обратном направлении.
2. Только прямо, налево и в обратном направлении
3. В любом.

### Вопрос 6



Какие знаки разрешают выполнить разворот?

1. Только Б.
2. Только Б и В.
3. Все.



### Вопрос 7



- Этот знак указывает, что;
1. Вы должны повернуть направо или налево.
  2. На пересекаемой дороге организовано реверсивное движение.
  3. На пересекаемой дороге организовано одностороннее движение.

### Вопрос 8



- Вы буксируете неисправный автомобиль. По какой полосе Вы можете продолжить движение?
1. Только по правой.
  2. По любой

### Вопрос 9



- Управляя каким автомобилем, Вы можете опередить легковой автомобиль?
1. Только легковым.
  2. Только легковым или грузовым автомобилем с разрешённой максимальной массой менее 3,5 т.
  3. Любым автомобилем.

### Вопрос 10



- Что запрещено в зоне действия этого знака?
1. Движение со скоростью более 20 км/час.
  2. Движение только механических транспортных средств.
  3. Движение любых транспортных средств

### Вопрос 11



Этот знак разрешает Вам ставить на стоянку легковой автомобиль с использованием тротуара:

1. Только на правой стороне дороги до ближайшего по ходу перекрёстка.
2. Только на правой стороне дороги до знака «Конец зоны регулируемой стоянки».
3. На любой стороне дорог, расположенных в зоне регулируемой стоянки.

### Вопрос 12

Какие знаки информируют Вас о том, что на данной дороге действуют требования Правил, устанавливающие порядок движения в населённых пунктах?



А



Б



В

1. Только А.
2. Только А и Б.
3. Все.

### Вопрос 13

Где начинают действовать требования Правил, относящиеся к населённым пунктам?

1. С места установки дорожного знака с названием населённого пункта на белом фоне.
2. С места установки дорожного знака с названием населённого пункта на белом или синем фоне.
3. В начале застроенной территории, непосредственно прилегающей к дороге.

## ПРАКТИЧЕСКАЯ РАБОТА №5

### Информационные знаки

#### Вопрос 1



Какие знаки указывают протяжённость зоны для разворота?

1. Только А.
2. Только Б.
3. Все.

#### Вопрос 2



По какой траектории Вам разрешено продолжить движение?

1. Только по А.
2. Только по А или Б.
3. По любой.
4. По любой, кроме Б.

#### Вопрос 3



О чём информирую Вас эти знаки?

1. При влажном покрытии рекомендуемая скорость 40 км/ч.
2. При влажном покрытии разрешённая скорость не более 40 км/ч.

#### Вопрос 4



Разрешено ли Вам повернуть направо на этом перекрёстке?

1. Да.
2. Нет.



### Вопрос 5



А



Б



В

Какие знаки используются для обозначения номера, присвоенного дороге (маршруту)?

1. Только А.
2. Только Б.
3. Только А и Б.
4. Все.

### Вопрос 6



Вы управляете грузовым автомобилем с разрешённой максимальной массой не более 3,5 т. В каких направлениях Вам разрешено дальнейшее движение?

1. Только направо.
2. Только направо, налево и в обратном направлении.
3. В любых.

### Вопрос 7



Этот дорожный знак с жёлтым фоном информирует Вас о том, что:

1. Дальнейшее движение возможно только по второй полосе.
2. Дальнейшее движение возможно только по проезжей части встречного направления.
3. Дальнейшее движение возможно только по другой дороге.

### Вопрос 8



Этот дорожный знак указывает:

1. Расстояние до конца тоннеля.
2. Расстояние до места аварийной остановки.
3. Направление движения к аварийному выходу и расстояние до него.



## ПРАКТИЧЕСКАЯ РАБОТА №6

### Знаки сервиса

#### Вопрос 1



А



Б



В

Какой из знаков используется для обозначения кемпинга?

1. Только А.
2. Только Б.
3. Только В.
4. Все.

### Знаки дополнительной информации

#### Вопрос 1



Какие транспортные средства можно поставить на стоянку указанным на табличке способом?

1. Только легковые автомобили и мотоциклы.
2. Все, кроме грузовых автомобилей с разрешённой максимальной массой более 3,5 т.
3. Любые транспортные средства.

#### Вопрос 2



Кто из водителей нарушил правила стоянки?

1. Только водитель грузового автомобиля.
2. Водители мотоцикла и грузового автомобиля.
3. Все водители.
4. Никто не нарушил.


### Вопрос 3



Разрешено ли водителю в этом месте поставить грузовой автомобиль на стоянку указанным способом?

1. Да.
2. Да, если разрешённая максимальная масса автомобиля менее 3,5 т.
3. Нет.

### Вопрос 4




Эта табличка распространяет действие установленного с ней знака:

1. Только на легковые автомобили.
2. На легковые автомобили, а также на грузовые автомобили с разрешённой максимальной массой до 3,5 т.
3. На легковые автомобили и мотоциклы.

### Вопрос 5



А



Б




В


Какие таблички распространяют действие установленных с ними знаков на грузовые автомобили с разрешённой максимальной массой менее 3,5 т?

1. Только Б.
2. Только В.
3. Б и В.
4. Все.

### Вопрос 6



А



Б



В

Какие таблички указывают протяжённость зоны действия знаков, с которыми они применяются?

1. Только А.
2. Только Б.
3. Б и В.

### Вопрос 7



Можете ли Вы остановиться для посадки пассажира за знаком?

1. Да.
2. Нет.

### Вопрос 8



Разрешено ли Вам поставить автомобиль на стоянку в указанном месте?

1. Разрешено.
2. Разрешено, если Вы проживаете рядом с этим местом.
3. Запрещено.

### Вопрос 9



Разрешена ли Вам остановка за знаком?

1. Разрешена.
2. Разрешена только для посадки или высадки пассажиров.
3. Запрещена.

### Вопрос 10



Что означают эти дорожные знаки?

1. Стоянка разрешена только транспортным средствам оперативных служб.
2. Стоянка разрешена только с включёнными габаритными огнями.
3. Стоянка разрешена только в праздничные, субботные и воскресные дни.



### Вопрос 11



Разрешено ли Вам подъехать к месту своей работы, расположенному в зоне действия этих знаков?

1. Разрешено только в нерабочие дни.
2. Разрешено только в рабочие дни.
3. Разрешено в любой день.
4. Не разрешено.

### Вопрос 12



В каком случае вам необходимо двигаться со скоростью до 40 км/ч?

1. Во всех случаях.
2. Только в том случае, когда покрытие на дороге влажное.

### Вопрос 13



Что означают эти дорожные знаки?

1. Место для стоянки только автобусов.
2. Место для стоянки автобусов и троллейбусов.
3. Место для стоянки транспортных средств, где для дальнейшего движения можно воспользоваться маршрутными транспортными средствами – автобусом или троллейбусом

### Вопрос 14



О чём информирует водителя табличка, установленная под знаком?

1. Стоянка оборудована пунктом технической помощи.
2. На стоянке имеется эстакада или смотровая яма.

## Горизонтальная разметка.

### Вопрос 1

Разрешается ли Вам пересекать двойную сплошную линию продольной разметки?

1. Разрешается только при выезде из двора и других прилегающих территорий.
2. Разрешается только при обгоне.
3. Разрешается только при интенсивном движении.
4. Не разрешается.

### Вопрос 2



В каком из указанных мест Вы можете пересечь сплошную линию разметки и остановиться?

1. Только Б.
2. В любом.
3. Ни в одном.

### Вопрос 3



Кому из водителей разрешено пересечь сплошную линию разметки с целью остановки в указанных местах?

1. Обоим разрешено.
2. Разрешено только водителю встречного автомобиля.
3. Обоим запрещено.

### Вопрос 4



Что означают прерывистые линии разметки в данной ситуации?

1. Места, где разрешён съезд на обочину только для остановки.
2. Край проезжей части на двухполосных дорогах.
3. Места, где разрешено движение по обочине

### Вопрос 5



Какой манёвр запрещает Вам данная линия разметки?

1. Только обгон.
2. Только объезд.
3. Только разворот.
4. Ничего не запрещает.

### Вопрос 6



Позволяет ли Вам данная разметка выполнить обгон?

1. Да.
2. Да, но только если скорость трактора менее 30 км/ч.
3. Нет.


### Вопрос 7



Позволяет ли Вам данная разметка выполнить обгон?

1. Да.
2. Да, но только если скорость трактора менее 30 км/ч.
3. Нет.

### Вопрос 8



Водитель какого автомобиля не нарушает Правила?

1. Только А.
2. Только Б.
3. Оба нарушают.
4. Оба не нарушают.



### Вопрос 9



Увеличение длины штриха прерывистой линии разметки информирует Вас:

1. О начале зоны, где запрещены любые манёвры.
2. О начале опасного участка дороги.
3. О приближении к сплошной линии разметки, разделяющей транспортные потоки попутных направлений

### Вопрос 10



Что обозначают прерывистые линии разметки на перекрёстке?

1. Обязательное направление движения на перекрёстке.
2. Границы полос движения в пределах перекрёстка.

### Вопрос 11



Разрешается ли Вам перестроиться на реверсивную полосу в данной ситуации?

1. Разрешается.
2. Разрешается только для поворота налево или разворота.
3. Запрещается.

### Вопрос 12



Разрешён ли Вам обгон?

1. Разрешён.
2. Разрешён, если скорость грузового автомобиля менее 30 км/ч.
3. Не разрешён.



### Вопрос 13

**Разрешён ли Вам такой манёвр при выключенных реверсивных светофорах?**

1. Разрешён, если нет встречных транспортных средств.
2. Разрешён только для обгона.
3. Не разрешён.

#### Вопрос 14



**Разрешён ли Вам обгон, если реверсивные светофоры отключены?**

1. Разрешён.
2. Разрешён, если скорость автобуса менее 30 км/ч.
3. Не разрешён.

#### Вопрос 15



**Как Вы должны действовать, если реверсивные светофоры выключились?**

1. Немедленно перестроиться на правую полосу.
2. Можете продолжить движение по полосе только до перекрёстка.
3. При отсутствии встречных транспортных средств продолжить движение по

полосе.

#### Вопрос 16

**Что означает разметка в виде надписи «СТОП» на проезжей части?**

1. Предупреждает о приближении к стоп-линии перед регулируемым перекрёстком.
2. Предупреждает о приближении к стоп-линии и знаку «Движение без остановки запрещено».
3. Предупреждает о приближении к знаку «Уступите дорогу».

#### Вопрос 17



**В данной ситуации Вы должны:**

1. Остановиться у знака.
2. Остановиться у стоп-линии.
3. При отсутствии других транспортных средств проехать перекрёсток без остановки.

#### Вопрос 18






Что обозначает разметка в виде треугольника на полосе ния?

1. Вы въезжаете на опасный участок дороги.
2. Предупреждает о приближении к месту, где нужно уступить дорогу.
3. Показывает место, где необходимо остановиться.

### Вопрос 19



Вы намерены повернуть налево. Где Вы должны остановиться, чтобы уступить дорогу?

1. Перед знаком.
2. Перед перекрёстком у линии разметки.
3. На перекрёстке перед прерывистой линией разметки.
4. В любом месте по усмотрению водителя.

дителя.

### Вопрос 20



Эта разметка обозначает:

1. Место, где начинается или заканчивается жилая зона.
2. Искусственную неровность на проезжей части.
3. Место, где начинается запрет на дальнейшее движение.

### Вопрос 21



Эта разметка обозначает:

1. Место, где велосипедная дорожка пересекает проезжую часть.
2. Место, где велосипедист имеет преимущество.
3. Место пешеходного перехода.



### Вопрос 22



Эта разметка, нанесённая на полосе движения:

1. Разрешает Вам только поворот налево.
2. Разрешает Вам только разворот.
3. Разрешает Вам поворот налево и разворот.

### Вопрос 23



Эта разметка, нанесённая на полосе движения:

1. Предоставляет Вам преимущество при перестроении на правую полосу.
2. Информировывает Вас о том, что дорога поворачивает направо.
3. Предупреждает Вас о приближении к сужению проезжей части.

### Вопрос 24



Какие из перечисленных транспортных средств имеют право двигаться по полосе, обозначенной разметкой «А», на которую распространяется действие дорожного знака, расположенного справа от дороги?

1. Троллейбусы и любые автобусы.
2. Автобусы и троллейбусы, движущиеся по установленным маршрутам с обозначенными местами остановок.
3. Любые автобусы.

### Вопрос 25



Разметкой в виде буквы «А» обозначают:

1. Специальную полосу для любых автобусов.
2. Место остановки и стоянки любых автобусов.
3. Специальную полосу для маршрутных транспортных средств.

### Вопрос 26



Эта разметка обозначает:

1. Номер дороги или маршрута.
2. Рекомендуемую скорость движения на данном участке дороги.

3. Разрешённую максимальную скорость движения на данном участке дороги.

### Вопрос 27



Что означает надпись на проезжей части дороги?

1. Расстояние до ближайшего перекрёстка.
2. Расстояние до ближайшего населённого пункта.
3. Номер дороги или маршрута.

### Вопрос 28



Разрешена ли Вам остановка в указанном месте?

1. Разрешена.
2. Разрешена без заезда на тротуар.
3. Запрещена.

### Вопрос 29



Разрешена ли Вам остановка в указанном месте?

1. Разрешена.
2. Разрешена только с заездом на тротуар.
3. Разрешена, если не создаётся помех маршрутным транспортным средствам.
4. Не разрешена.

### Вопрос 30





Разрешено ли Вам поставить автомобиль на стоянку в указанном месте?

1. Разрешено.
2. Разрешено только с частичным заездом на тротуар.
3. Запрещено.

### Вопрос 31



Этой линией обозначают:

1. Участок дороги, где запрещено движение вблизи от тротуара.
2. Места, где запрещена любая остановка.
3. Места остановки маршрутных транспортных средств и стоянки такси.

### Вопрос 32



Можете ли Вы остановиться в этом месте для посадки или высадки пассажиров?

1. Да.
2. Да, если Вы не создадите помех движению маршрутных транспортных средств.
3. Нет.

### Вопрос 33



По какой траектории Вы можете объехать препятствие?

1. Только по А.
2. Только по Б.
3. По любой.

### Вопрос 34

Чем Вы должны руководствоваться, если значения дорожных знаков и линий горизонтальной разметки противоречат друг другу?

1. Требованиями линий разметки.
2. Требованиями дорожных знаков.
3. Правила эту ситуацию не регламентируют.



## Вопрос 35

Чем Вы должны руководствоваться, если нанесённые на проезжей части белые и оранжевые линии разметки противоречат друг другу?

1. Правила эту ситуацию не регламентируют.
2. Необходимо руководствоваться белыми линиями.
3. Необходимо руководствоваться оранжевыми линиями.

## Вертикальная разметка.

### Вопрос 1.



ных средств.

Такой вертикальной разметкой обозначают:

1. Все вертикальные элементы дорожных сооружений.
2. Только вертикальные элементы дорожных сооружений, представляющие опасность для движущихся транспорт-

### Вопрос 2.



ний, представляющие опасность.

Такой вертикальной разметкой обозначают:

1. Только нижний край пролётного строения тоннелей, мостов и путепроводов.
2. Только въезд в неосвещённые тоннели.
3. Любые элементы дорожных сооруже-

### Вопрос 3.



Такая вертикальная разметка на ограждении дороги предупреждает Вас:

1. О приближении к железнодорожному переезду.
2. О приближении к опасному пересечению.
3. О движении по опасному участку дорог

### Вопрос 4.



Такой вертикальной разметкой обозначают:

1. Боковые поверхности ограждений только на опасных участках дорог.
2. Боковые поверхности ограждений на других участках дорог.

## Вопрос 5.



- Данная вертикальная разметка:
1. Запрещает стоянку транспортных средств.
  2. Запрещает остановку транспортных средств.
  3. Обозначает бордюры на опасных участках дорог.

## ПРАКТИЧЕСКАЯ РАБОТА №8

### Расположение транспортных средств на проезжей части.

#### Вопрос 1.

В каких случаях на дорогах, проезжая часть которых разделена линиями разметки, Вы обязаны двигаться строго по полосам?

1. Только при интенсивном движении.
2. Только если полосы движения обозначены сплошными линиями разметки.
3. Во всех случаях.

## Вопрос 2.

В каких случаях Вы можете наезжать на прерывистые линии разметки, разделяющие проезжую часть на полосы движения?

1. Только при перестроении.
2. Только при движении в тёмное время суток.
3. Только если на дороге нет других транспортных средств.
4. Во всех перечисленных случаях.

## Вопрос 3.



Укажите расстояние, под которым в Правилах подразумевается дистанция?

1. Только А.
2. Только Б.
3. Только В.
4. А и В.

## Вопрос 4.



Кто из мотоциклистов занял правильное положение на полосе движения?

1. Только мотоциклист, занимающий левое положение на полосе движения.
2. Только мотоциклист, занимающий правое положение на полосе движения.
3. Оба мотоциклиста.

## Вопрос 5.



Кто из мотоциклистов занял правильное положение на полосе движения?

1. Только мотоциклист, занимающий левое положение на полосе движения.
2. Только мотоциклист, занимающий правое положение на полосе движения.
3. Оба мотоциклиста.

## Вопрос 6.

В каких случаях допускается движение автомобилей по тротуарам или пешеходным дорожкам?

1. В любых, если не будут созданы помехи пешеходам.
2. Только если Вы обслуживаете торговые или другие предприятия, расположенные непосредственно у этих тротуаров или дорожек при отсутствии других возможностей подъезда.

## Вопрос 7.



**Разрешается ли Вам использовать для движения трамвайные пути встречного направления?**

1. Разрешается, если при этом не будут созданы помехи встречным транспортным средствам.
2. Разрешается только при объезде трамвая попутного направления.
3. Не разрешается.

### Вопрос 8.



**Разрешается ли Вам обогнать легковой автомобиль в данной ситуации?**

1. Не разрешается.
2. Разрешается.

### Вопрос 9.



**Разрешается ли Вам, управляя легковым автомобилем, продолжить движение по трамвайным путям попутного направления?**

1. Разрешается.
2. Разрешается только для поворота налево и разворота.
3. Запрещается.

### Вопрос 10.



**По каким полосам Правила разрешают Вам движение на этой дороге?**

1. По любой.
2. По любой, кроме левой.
3. Только по правой.

### Вопрос 11.



**По какой полосе Вам разрешено движение в данной ситуации?**

1. По любой.
2. Только по правой.

### Вопрос 12.



По какой полосе Вы можете продолжить движение, завершив опережение вне населённого пункта?

1. Только по правой.
2. По любой.

### Вопрос 13.



По какой полосе вы можете продолжить движение, опередив грузовой автомобиль в населённом пункте?

1. Только по правой.
2. По любой.

### Вопрос 14.



По какой полосе Вам разрешено движение на легковом автомобиле в данной ситуации?

1. По любой.
2. Только по правой.
3. По любой, кроме крайней левой.

### Вопрос 15.



Разрешается ли Вам, управляя грузовым автомобилем с разрешённой максимальной массой более 2,5 т, выехать на третью полосу в данной ситуации?

1. Разрешается.
2. Разрешается только для поворота направо или разворота.
3. Разрешается только для опережения.

4. Запрещается.

### Вопрос 16.



Можете ли Вы продолжить движение по средней полосе после обгона?

1. Да.
2. Нет.



### Вопрос 17.



Можете ли Вы выехать на крайнюю левую полосу для обгона в данной ситуации?

1. Да.
2. Нет.
3. Да, если гужевая повозка движется со скоростью менее 30 км/ч.

### Вопрос 18.



По какой траектории следует двигаться, поворачивая налево?

1. Только по А.
2. Только по Б.
3. По любой.

### Вопрос 19.



В каком направлении Вы можете продолжить движение по средней полосе?

1. Прямо или налево.
2. Только налево.
3. Только налево или в обратном направлении.

### Вопрос 20.



Водитель какого автомобиля, поворачивая налево, не нарушает Правила?

1. Только легкового.
2. Только грузового.
3. Оба не нарушают.

### Вопрос 21.



По какой траектории Вы можете продолжить движение?

1. Только по А.
2. Только по Б.



### Вопрос 22.



По какой траектории Вы можете продолжить движение?

1. Только по А.
2. Только по Б.
3. По любой.

### Вопрос 23.

По какой полосе проезжей части Вам разрешено движение в населённом пункте, если по техническим причинам Ваше транспортное средство не может развивать скорость более 40 км/ч?

1. Только по крайней правой.
2. Не далее второй полосы.
3. По любой, кроме крайней левой.


### Вопрос 24.

В каких случаях Вам разрешено выезжать за пределы крайне правой полосы, если Вы управляете транспортным средством, скорость которого не должна превышать 40 км/ч?

1. Только при объезде или перестроении перед поворотом или разворотом.
2. Только при обгоне.
3. В обоих перечисленных случаях.

### Остановка и стоянка.

#### Вопрос 1.



Водитель какого автомобиля нарушил правила остановки?

1. Только Б.
2. Только Б и В.
3. Все нарушили.

Кто из водителей нарушил правила остановки?

1. Только водитель автомобиля.
2. Только водитель мотоцикла.
3. Оба нарушили.
4. Оба не нарушили.

#### Вопрос 2.



### Вопрос 3.



В каком из указанных мест Вы можете остановиться?

1. Только В.
2. Только А и В.
3. Только Б и В.
4. В любом.

### Вопрос 4.



В каком из указанных мест Вам разрешено поставить автомобиль на стоянку?

1. Только А.
2. Только Б.
3. В любом.

### Вопрос 5.



В каком из указанных мест Вы можете поставить на стоянку легковой автомобиль?

1. Только А.
2. Только В.
3. А или В.
4. Ни в каком.

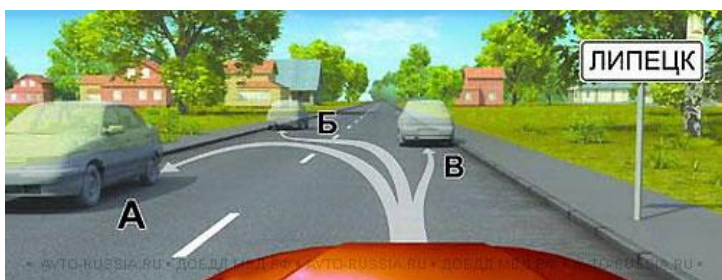
### Вопрос 6.



В каком из указанных мест Вы можете остановиться на легковом автомобиле?

1. Только Б.
2. А или Б.
3. Только А или В.
4. В любом.

### Вопрос 7.




В каком месте Вы можете произвести остановку?

1. Только В.
2. Только Б и В.
3. В любом.




### Вопрос 8.



В каком из указанных мест Вы можете поставить автомобиль на стоянку?

1. Только В.
2. Б или В.
3. В любом.

### Вопрос 9.



По какой траектории Вы можете подъехать к пассажирам?

1. Только по А.
2. Только по Б.
3. По любой.

### Вопрос 10.



Разрешено ли Вам поставить автомобиль на стоянку в указанном месте?

1. Запрещено.
2. Разрешено.

### Вопрос 11.



Нарушил ли водитель легкового мобиля Правила, поставив автомобиль на стоянку указанным способом?

1. Нет.
2. Нет, если при этом не создаются помехи для движения других транспортных средств.
3. Да.

### Вопрос 12.



Кто из водителей нарушил правила стоянки?

1. Только А.
2. Только Б.
3. Никто не нарушил.



### Вопрос 13.



Кто из водителей нарушил правила стоянки?

1. Только А.
2. Только Б.
3. Никто не нарушил.
4. Оба нарушили.

### Вопрос 14.



Кто из водителей нарушил правила стоянки?

1. Только А.
2. Только Б.
3. Никто не нарушил.

### Вопрос 15.



Разрешено ли водителю поставить на стоянку грузовой автомобиль с разрешённой максимальной массой менее 3,5 т указанным на табличке способом?

1. Да.
2. Нет.

### Вопрос 16.

Где разрешается стоянка в целях длительного отдыха, ночлега на дорогах вне населённого пункта?

1. Только на хорошо просматриваемом месте на обочине.
2. В любом месте на обочине.
3. Только на предусмотренных для этого площадках или за пределами дороги.
4. В любом из перечисленных мест.

### Вопрос 17.



В каком месте на данном участке дороги Вы можете поставить автомобиль на длительную стоянку?

1. В любом месте на обочине.
2. Только через 500 м на специальной площадке.
3. В обоих указанных местах.

### Вопрос 18.



Можете ли Вы остановиться на мосту для посадки пассажира?

1. Да.
2. Нет.

### Вопрос 19.



Можете ли Вы остановиться на мосту в указанном месте?

1. Да.
2. Да, только для высадки пассажиров.
3. Нет.


### Вопрос 20.



Можете ли Вы остановиться для посадки пассажира?

1. Да.
2. Нет.


### Вопрос 21.



Разрешено ли Вам остановиться на легковом автомобиле в указанном месте?

1. Да.
2. Нет.

### Вопрос 22.



Кто из водителей нарушил правила стоянки?

1. Оба нарушили.
2. Только водитель автомобиля.
3. Только водитель мотоцикла.
4. Никто не нарушил.




### Вопрос 23.



Нарушил водитель грузового автомобиля с разрешённой максимальной массой не более 3,5 т правила стоянки в данной ситуации?

1. Да.
2. Нет.

### Вопрос 24.



Кто нарушил правила остановки.

1. Оба водителя.
2. Только водитель грузового автомобиля.
3. Только водитель легкового автомобиля.
4. Никто не нарушил.

### Вопрос 25.



Можете ли Вы остановиться в указанном месте после поворота направо?

1. Да.
2. Нет.

### Вопрос 26.



Разрешена ли водителям остановка в указанных местах?

1. Разрешена.
2. Разрешена только мотоциклисту.
3. Запрещена.

### Вопрос 27.

Разрешена ли Вам остановка в указанном месте на перекрёстке?


1. Разрешена.
2. Разрешена, если расстояние от Вашего транспортного средства до линии разметки не менее 3-х метров.





### 3. Запрещена.

#### Вопрос 28.



Разрешена ли Вам остановка в указанном месте?

1. Разрешена.
2. Разрешена, но только при отсутствии пешеходов на переходе.
3. Не разрешена.

#### Вопрос 29.



Разрешено ли водителю поставить автомобиль на стоянку в указанном месте?

1. Да.
2. Нет.

#### Вопрос 30.



В каком из указанных мест Вы можете произвести остановку?

1. Только А.
2. Только Б.
3. Только Б и В.
4. Ни в каком.

#### Вопрос 31.



Разрешена ли Вам остановка в указанных местах?

1. Разрешена только в Б.
2. Разрешена только в В.
3. Разрешена только в А и В.
4. Запрещена.

#### Вопрос 32.

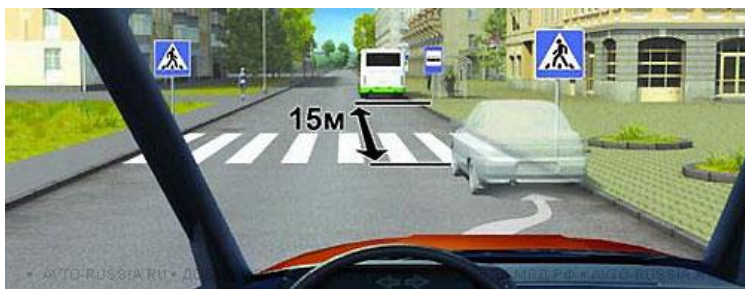


Разрешено ли Вам поставить автомобиль на стоянку в указанном месте?

1. Разрешено.
2. Разрешено, если при этом не будет создано помех для движения мар-

шрутных транспортных средств.  
3. Запрещено.

### Вопрос 33.



Разрешено ли Вам поставить автомобиль на стоянку в указанном месте?

1. Разрешено.
2. Разрешено, если при этом не будет создано помех для движения маршрутных транспортных средств.
3. Запрещено.

### Вопрос 34.



Разрешена ли Вам остановка для посадки пассажира в этом месте?

1. Разрешена.
2. Разрешена, если при этом не будет создано помех для движения маршрутных транспортных средств.
3. Запрещена.

### Вопрос 35.



Разрешена ли Вам остановка для посадки пассажира в этом месте?

1. Разрешена.
2. Разрешена, если при этом не будет создано помех для движения маршрутных транспортных средств.
3. Запрещена.

### Вопрос 36.



Можете ли Вы поставить автомобиль на стоянку в указанном месте?

1. Да.
2. Нет.

### Вопрос 37.

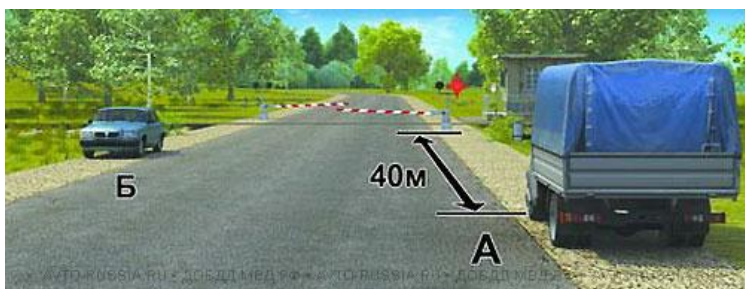


Разрешено ли Вам поставить автомобиль на стоянку в указанном месте?

1. Да.
2. Нет.



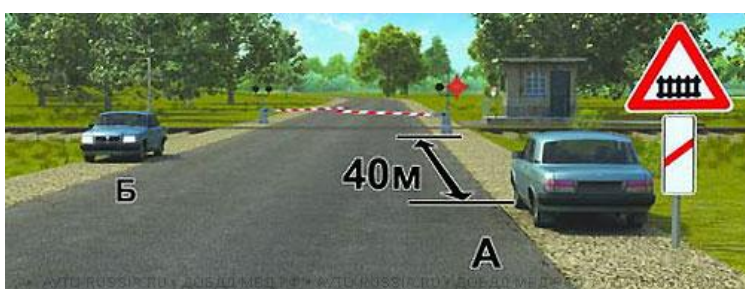
### Вопрос 38.



Кто из водителей нарушил правила остановки?

1. Только водитель автомобиля А.
2. Только водитель автомобиля Б.
3. Оба не нарушили.
4. Оба нарушили.

### Вопрос 39.



Кто из водителей нарушил правила стоянки?

1. Только водитель автомобиля А.
2. Только водитель автомобиля Б.
3. Оба нарушили.
4. Оба не нарушили.

### Вопрос 40.



Разрешено ли Вам поставить автомобиль на стоянку в указанном месте при наличии узкой обочины?

1. Разрешено.
2. Разрешено, но только в светлое время суток.
3. Запрещено.

## ПРАКТИЧЕСКАЯ РАБОТА №9

### Сигналы светофора.

#### Вопрос 1.

Что означает мигание зелёного сигнала светофора?

1. Предупреждает о неисправности светофора.
2. Разрешает движение и информирует о том, что вскоре будет включён запрещающий сигнал.



3. Запрещает дальнейшее движение.

### Вопрос 2.

**Что означает сочетание красного и жёлтого сигналов светофора?**

1. Неисправна светофорная сигнализация.
2. Вскоре будет включён зелёный сигнал.
3. Вскоре будет включён красный сигнал.

### Вопрос 3.

**Разрешается ли Вам продолжить движение, если при включении жёлтого сигнала светофора после зелёного Вы можете остановиться перед перекрёстком, только применив экстренное торможение?**

1. Разрешается.
2. Разрешается, только если Вы намерены проехать перекрёсток в прямом направлении.
3. Не разрешается.

### Вопрос 4.

**Что означает мигание жёлтого сигнала светофора?**

1. Предупреждает о неисправности светофора.
2. Разрешает движение и информирует о наличии нерегулируемого перекрёстка или пешеходного перехода.
3. Запрещает дальнейшее движение.

### Вопрос 5.

**Красный мигающий сигнал или два попеременно мигающих красных сигнала светофора, установленного на железнодорожном переезде, означают:**

1. Движение разрешается с особой осторожностью.
2. Движение запрещено.
3. Светофорная сигнализация неисправна.

### Вопрос 6.



**Ваши действия в данной ситуации:**

1. Проехать переезд.
2. Остановиться перед переездом.

### Вопрос 7.

**Каким транспортным средствам разрешено движение прямо?**

1. Только легковому и грузовому автомобилям.
2. Только грузовому автомобилю.



3. Только грузовому автомобилю и автобусу.
4. Всем транспортным средствам.

### Вопрос 8.



О чём информирует Вас сигнал светофора в виде стрелки красного цвета?

1. На этом перекрёстке всегда запрещён поворот направо.
2. Поворот направо разрешён, но необходимо уступить дорогу пешеходам.

3. При включении зелёного сигнала светофора движение будет разрешено только направо.

### Вопрос 9.



О чём информируют Вас стрелки на зелёном сигнале светофора?

1. На этом перекрёстке всегда запрещён поворот направо.
2. Движение направо регулируется дополнительной секцией.

### Вопрос 10.



В каких направлениях Вы можете продолжить движение?

1. Только направо в первый проезд.
2. Направо в первый и второй проезды.
3. Движение запрещено.

### Вопрос 11.



В каких направлениях Вам разрешено продолжить движение?

1. Только налево.
2. Прямо и налево.
3. Налево и в обратном направлении.



**Вопрос 12.**



**В каких направлениях вам разрешено продолжить движение?**

1. Только налево.
2. Только в обратном направлении.
3. Налево и в обратном направлении.

**Вопрос 13.**



**Вы были намерены проехать перекрёсток в прямом направлении. Как следует поступить, если Вы не успели заранее перестроиться на левую полосу?**

1. Выехать за стоп-линию, перестроиться в левую полосу и остановиться перед пересекаемой проезжей частью.
2. Остановиться перед стоп-линией и, дождавшись зелёного сигнала светофора, продолжить движение прямо.
3. Повернуть направо.

фора, продолжить движение прямо.

**Вопрос 14.**



**В каком месте Вам следует остановиться?**

1. Перед светофором.
2. Перед стоп-линией.
3. В любом.

**Вопрос 15.**



**В каком месте Вам следует остановиться?**

1. Перед светофором.
2. Перед пересекаемой проезжей частью.



3. В любом.

**Вопрос 16.**



Можете ли Вы обогнать грузовой автомобиль?

1. Да.
2. Нет.

**Вопрос 17.**



Разрешено ли Вам за перекрёстком въехать на полосу реверсивного движения?

1. Да.
2. Нет.

**Вопрос 18.**



На какие транспортные средства распространяются сигналы такого светофора?

1. Только на трамваи.
2. На трамваи, а также на другие маршрутные транспортные средства, движущиеся по выделенной для них полосе.
3. На все маршрутные транспортные средства.

Сигналы регулировщика.

**Вопрос 1.**

Чем Вы должны руководствоваться, если указания регулировщика противоречат сигналам светофора и значениям дорожных знаков?

1. Требованиями дорожных знаков.
2. Значениями сигналов светофора.
3. Указаниями регулировщика.

### Вопрос 2.



Должны ли Вы остановиться по требованию регулировщика в указанном месте?

1. Да.
2. Да, но только с заездом на тротуар.
3. Нет.

### Вопрос 3.

Какое значение имеет сигнал свистком, подаваемый регулировщиком?

1. Вы должны немедленно остановиться.
2. Вы должны ускорить движение.
3. Сигнал подаётся для привлечения внимания участников движения.

### Вопрос 4.



При таком жесте регулировщика и сигналах светофора Вы должны:

1. Продолжить движение прямо.
2. Продолжить движение прямо или направо.
3. Остановиться у стоп-линии.

### Вопрос 5.

Разрешается ли Вам продолжить движение, если регулировщик поднял руку вверх после того, как Вы въехали на перекрёсток?

1. Не разрешается.
2. Разрешается, только если Вы поворачиваете направо.
3. Разрешается.

### Вопрос 6.



В каких направлениях регулировщик разрешает Вам движение?

1. Только прямо.
2. Только прямо и направо.
3. Во всех.

### Вопрос 7.



В каких направлениях Вы можете продолжить движение?

1. Прямо или направо.
2. Только прямо.
3. Только направо.

### Вопрос 8.



В каких направлениях Вам разрешено продолжить движение?

1. Только прямо.
2. Только направо.
3. Прямо или направо.

### Вопрос 9.



В каких направлениях Вам разрешено движение?

1. Только налево и в обратном направлении.
2. Прямо, налево и в обратном направлении.
3. Во всех.

### Вопрос 10.



В каких направлениях вам разрешено продолжить движение?

1. Только прямо и налево.
2. Только прямо, налево и в обратном направлении.



### 3. В любом.

#### Вопрос 11.



Кто из водителей может продолжить движение?

1. Только водитель автобуса.
2. Только водитель легкового автомобиля.
3. Оба водителя.
4. Никто.


#### Вопрос 12.



В каких направлениях Вам разрешено движение?

1. Только прямо.
2. Только прямо и направо.
3. Только прямо, налево и в обратном направлении.
4. В любом.

#### Вопрос 13.



В каких направлениях Вам разрешено продолжить движение?

1. Только А.
2. А или Б.
3. В любом.

#### Вопрос 14.



Разрешено ли Вам движение?

1. Разрешено только направо.
2. Запрещено.

**Вопрос 15.**



**Разрешено ли вам движение.**

1. Разрешено только направо.
2. Запрещено.

**ПРАКТИЧЕСКАЯ РАБОТА №10  
ПРОЕЗД ПАРЕКРЕСТКОВ**

Нерегулируемые перекрёстки равнозначных дорог.

**Вопрос 1.**



**Вы намерены повернуть направо.  
Ваши действия?**

1. Уступите дорогу только пешеходу, переходящему проезжую часть по нерегулируемому пешеходному переходу.

2. Уступите дорогу только пешеходам, переходящим проезжую часть, на которую Вы поворачиваете.

3. Уступите дорогу всем пешеходам.

### Вопрос 2.



Вы намерены повернуть налево. Ваши действия?

1. Уступите дорогу пешеходам.
2. Проедьте перекрёсток, не уступая дорогу пешеходам.

### Вопрос 3.



Кто из водителей должен уступить дорогу пешеходам?

1. Только водитель легкового автомобиля.
2. Только водитель грузового автомобиля.
3. Оба водителя.

### Вопрос 4.



При повороте направо Вы должны уступить дорогу:

1. Только велосипедистам.
2. Только пешеходам.
3. Пешеходам и велосипедистам.
4. Никому.

### Вопрос 5.



Вы имеете право выехать на перекрёсток, если за ним образовался затор:

1. Только если Вы намерены проехать перекрёсток в прямом направлении.
2. Только если Вы намерены совершить поворот или разворот.
3. В любом случае.

### Вопрос 6.



Намереваясь продолжить движение в прямом направлении, Вы должны:

1. Проехать перекрёсток первым.
2. Пропустить автомобиль с включённым проблесковым маячком и специальным звуковым сигналом.



### Вопрос 7.



сток первым.

**Вы намерены проехать перекрёсток в прямом направлении. Ваши действия?**

1. Уступите дорогу легковому автомобилю, поскольку он первым въехал на перекрёсток.
2. Убедитесь, что легковой автомобиль уступает дорогу, и проедете перекрёсток первым.

### Вопрос 8.



**Намереваясь продолжить движение в прямом направлении, Вы должны:**

1. Уступить дорогу легковому автомобилю.
2. Проехать перекрёсток первым.

### Вопрос 9.



**Намереваясь продолжить движение в прямом направлении, Вы должны:**

1. Проехать перекрёсток первым.
2. Уступить дорогу грузовому автомобилю.

### Вопрос 10.



**Вы намерены продолжить движение прямо. Ваши действия:**

1. Завершите проезд перекрёстка, если Вы первым въедете на него.
2. Уступите дорогу грузовому автомобилю.

### Вопрос 11.

**Поворачивая направо, Вы должны:**

1. Уступить дорогу автомобилю.
2. Проехать перекрёсток первым.




### Вопрос 12.



**Поворачивая налево, Вы должны:**

1. Уступить дорогу автомобилю.
2. Проехать перекрёсток первым.

### Вопрос 13.



**При повороте налево Вы должны:**

1. Уступить дорогу легковому автомобилю.
2. Проехать перекрёсток первым.

### Вопрос 14.



**Вы намерены повернуть налево. Ваши действия?**

1. Проедете перекрёсток первым.
2. Уступите дорогу легковому автомобилю.

### Вопрос 15.



**Вы намерены развернуться. Ваши действия?**

1. Развернётесь первым.
2. Выедете на перекрёсток и, уступив дорогу автомобилю, завершите разворот.

### Вопрос 16.



**Вы намерены повернуть налево. Ваши действия?**

1. Проедете перекрёсток первым.
2. Уступите дорогу автомобилю.



### Вопрос 17.



Вы намерены продолжить движение в прямом направлении. Следует ли уступить дорогу грузовому автомобилю?

1. Да.
2. Нет.

### Вопрос 18.



При движении прямо через перекрёсток равнозначных дорог Вы:

1. Имеете преимущество.
2. Должны уступить дорогу только мотоциклу.
3. Должны уступить дорогу только автомобилю.
4. Должны уступить дорогу обоим транспортным средствам.

### Вопрос 19.



Вы намерены продолжить движение в прямом направлении. Ваши действия?

1. Проедете перекрёсток первым.
2. Продолжите движение только после въезда на перекрёсток легкового автомобиля.

### Вопрос 20.



Вы намерены повернуть направо. Ваши действия?

1. Проедете перекрёсток первым.
2. Уступите дорогу легковому автомобилю.

### Вопрос 21.

Вы намерены повернуть направо. Ваши действия?

1. Проедете перекрёсток первым.
2. Уступите дорогу только легковому авто-






мобилью.

3. Уступите дорогу легковому автомобилю и мотоциклу.

### Вопрос 22.



**Вы намерены повернуть налево. Ваши действия?**

1. Проедете перекрёсток первым.
2. Выедете на перекрёсток и, уступив дорогу мотоциклу, завершите поворот.

### Вопрос 23.



**Вы намерены повернуть налево. Ваши действия?**

1. Проедете перекрёсток первым.
2. Уступите дорогу только легковому автомобилю.
3. Уступите дорогу только мотоциклу.

### Вопрос 24.



**Вы намерены повернуть налево. Ваши действия?**

1. Проедете перекрёсток первым одновременно со встречным автомобилем.
2. Проедете перекрёсток последним после проезда мотоцикла.

### Вопрос 25.



**Вы намерены повернуть налево. Кому Вы должны уступить дорогу?**

1. Обоим транспортным средствам.
2. Только грузовому автомобилю.
3. Только легковому автомобилю.

### Вопрос 26.



**При жёлтом мигающем сигнале светофора, двигаясь прямо, Вы должны:**

1. Остановиться и продолжить движение только после включения зелёного

сигнала светофора.

2. Уступить дорогу гужевой повозке.

3. Проехать перекрёсток одновременно со встречным автомобилем.

### Вопрос 27.



**Вы намерены повернуть налево. Ваши действия?**

1. Уступите дорогу обоим грузовым автомобилям.
2. Выехав на перекрёсток, уступите дорогу встречному грузовому автомобилю и завершите поворот.

### Вопрос 28.



**Кто первым проедет перекрёсток, если все намерены двигаться прямо?**

1. Вы одновременно с троллейбусом.
2. Грузовой автомобиль.
3. Правила эту ситуацию не регламентируют. Водители должны определить очерёдность по договорённости.

### Вопрос 29.



**При въезде на перекрёсток Вы:**

1. Должны уступить дорогу только мотоциклу.
2. Должны уступить дорогу обоим транспортным средствам.
3. Имеете преимущественное право на движение.

### Вопрос 30.



**Вы намерены продолжить движение по перекрёстку с круговым движением. Следует ли уступить дорогу грузовому автомобилю?**

1. Да.
2. Нет.

### Вопрос 31.

**Должны ли Вы при движении прямо уступить дорогу трамваю?**

1. Да.
2. Нет.





### Вопрос 32.



Вы намерены продолжить движение в прямом направлении. Должны ли Вы уступить дорогу грузовому автомобилю?

1. Да.
2. Нет.

### Вопрос 33.



Вы намерены повернуть налево. Ваши действия?

1. Уступите дорогу трамваю.
2. Проедете перекрёсток первым.

### Вопрос 34.



Следует ли при движении прямо уступить дорогу трамваю?

1. Да.
2. Нет.

### Вопрос 35.



Следует ли при движении прямо уступить дорогу трамваю?

1. Да.
2. Нет.

### Вопрос 36.



Вы намерены проехать перекрёсток в прямом направлении. Кому следует уступить дорогу?

1. Только трамваю.
2. Только грузовому автомобилю.
3. Обоим транспортным средствам.

### Вопрос 37.



Вы намерены проехать перекрёсток в прямом направлении. Кому следует уступить дорогу?

1. Только трамваю.
2. Только легковому автомобилю.
3. Обоим транспортным средствам.

### Вопрос 38.



Вы намерены проехать перекрёсток в прямом направлении. Кому следует уступить дорогу?

1. Только трамваю А.
2. Только трамваю Б.
3. Обоим трамваям.

### Вопрос 39.



Намереваясь продолжить движение в прямом направлении, Вы должны:

1. Проехать перекрёсток первым.
2. Уступить дорогу только трамваю.
3. Уступить дорогу трамваю и легковому автомобилю.

### Вопрос 40.



Вы намерены проехать перекрёсток в прямом направлении. Кому следует уступить дорогу?

1. Только трамваю А.
2. Только трамваю Б.
3. Обоим трамваям.

Нерегулируемые перекрёстки не-

равнозначных дорог.

### Вопрос 1.





**Вы обязаны уступить дорогу пешеходам:**

1. Только при повороте налево по направлению главной дороги.
2. Только при повороте направо
3. В обоих случаях.

### Вопрос 2.



**Вы намерены проехать перекрёсток в прямом направлении. Ваши действия?**

1. Проедете перекрёсток первым.
2. Уступите дорогу автомобилю с включёнными проблесковым маячком и специальным звуковым сигналом.

### Вопрос 3.



**Вы намерены проехать перекрёсток в прямом направлении. Следует ли уступить дорогу грузовому автомобилю, выезжающему с грунтовой дороги?**

1. Да.
2. Нет.

### Вопрос 4.



**Обязан ли мотоциклист уступить Вам дорогу в данной ситуации?**

1. Да.
2. Нет.

### Вопрос 5.



**Вы намерены проехать перекресток в прямом направлении. Должны ли Вы уступить дорогу встречному автомобилю с включённым проблесковым маячком?**

1. Да.
2. Нет.

### Вопрос 6.



**Вы намерены развернуться. Ваши действия?**

1. Уступите дорогу только легковому автомобилю и развернётесь.
2. Уступите дорогу обоим транспортным средствам и развернётесь.

### Вопрос 7.



Намереваясь повернуть налево, Вы должны:

1. Уступить дорогу грузовому автомобилю.
2. Уступить дорогу обоим транспортным средствам.
3. Проехать перекрёсток первым.

### Вопрос 8.



При повороте налево во второй проезд Вы:

1. Имеете преимущество.
2. Должны уступить дорогу легковому автомобилю и автобусу.
3. Должны уступить дорогу только автобусу.

### Вопрос 9.



Намереваясь продолжить движение прямо, Вы должны:

1. Проехать перекрёсток первым.
2. Уступить дорогу трамваю.

### Вопрос 10.



Вы намерены продолжить движение прямо. При жёлтом мигающем сигнале светофора Вы должны:

1. Проехать перекрёсток первым.
2. Уступить дорогу только грузовому автомобилю.
3. Уступить дорогу только трамваю.
4. Уступить дорогу обоим транспортным средствам.

### Вопрос 11.

Вы намерены повернуть направо. Можете ли Вы приступить к повороту?





1. Да.
2. Да, после того, как грузовой автомобиль начнёт поворот.
3. Нет.

### Вопрос 12.



Вы намерены повернуть направо. Можете ли Вы приступить к повороту?

1. Да.
2. Да, но, не создавая помех грузовому автомобилю.
3. Нет.

### Вопрос 13.



Вы намерены повернуть налево. Кому следует уступить дорогу?

1. Только автобусу.
2. Только грузовому автомобилю.
3. Обоим транспортным средствам.

### Вопрос 14.



Вы намерены повернуть налево. Кому следует уступить дорогу?

1. Никому.
2. Только автомобилю с включённым проблесковым маячком и специальным звуковым сигналом.
3. Обоим транспортным средствам.


### Вопрос 15.



Вы намерены повернуть налево. Ваши действия?

1. Проедете перекрёсток первым.
2. Уступите дорогу только грузовому автомобилю с включённым проблесковым маячком.
3. Уступите дорогу обоим транспортным средствам.

### Вопрос 16.



Вы намерены повернуть налево. Кому следует уступить дорогу?

1. Только автобусу.
2. Легковому автомобилю и автобусу.
3. Только мотоциклу.
4. Никому.

### Вопрос 17.



Вы намерены продолжить движение прямо. Кому следует уступить дорогу?

1. Только мотоциклу.
2. Мотоциклу и легковому автомобилю.
3. Никому.

### Вопрос 18.



Вы намерены повернуть налево. Кому следует уступить дорогу?

1. Только автобусу.
2. Только легковому автомобилю.
3. Никому.

### Вопрос 19.



Вы намерены повернуть налево. Кому следует уступить дорогу?

1. Только автобусу.
2. Только легковому автомобилю.
3. Никому.

### Вопрос 20.




Вы намерены повернуть налево. Кому следует уступить дорогу?

1. Только автобусу.
2. Только легковому автомобилю.
3. Никому.

### Вопрос 21.

Вы намерены продолжить движение прямо. Кому следует уступить дорогу?

1. Только легковому автомобилю.
2. Легковому автомобилю и мотоциклу.
3. Никому.





### Вопрос 22.



Вы намерены повернуть налево. Кому следует уступить дорогу?

1. Только легковому автомобилю.
2. Легковому автомобилю и автобусу.
3. Никому.

### Вопрос 23.



Вы намерены развернуться. Кому следует уступить дорогу?

1. Только грузовому автомобилю.
2. Только легковому автомобилю.
3. Обоим транспортным средствам.

### Вопрос 24.



Вы намерены повернуть налево. Кому следует уступить дорогу?

1. Только автобусу.
2. Только легковому автомобилю.
3. Никому.

### Вопрос 25.



Вы намерены повернуть налево. Кому следует уступить дорогу?

1. Только автобусу.
2. Обоим транспортным средствам.
3. Никому.

### Вопрос 26.

Вы намерены повернуть налево. Кому следует уступить дорогу?

1. Трамваю А и легковому автомобилю.
2. Только трамваю А.
3. Всем транспортным средствам.
4. Никому.



### Вопрос 27.



Вы намерены продолжить движение прямо. Кому следует уступить дорогу?

1. Только трамваю.
2. Только легковому автомобилю.
3. Трамваю и легковому автомобилю.
4. Всем транспортным средствам.

### Вопрос 28.



Вы намерены продолжить движение прямо. Каковы Ваши действия при жёлтом мигающем сигнале светофора?

1. Уступите дорогу только трамваю.
2. Уступите дорогу только автомобилю.
3. Дождётесь включения зелёного сигнала светофора и продолжите движение.

ние.

### Вопрос 29.



Вы намерены повернуть налево. Кому следует уступить дорогу?

1. Только трамваям.
2. Трамваю Б и легковому автомобилю.
3. Всем транспортным средствам.

### Вопрос 30.



Вы намерены повернуть налево. Можете ли Вы приступить к повороту?

1. Да.
2. Да, не создавая помех грузовому автомобилю.
3. Нет.

### Вопрос 31.



Вы намерены продолжить движение прямо. Кому следует уступить дорогу.

1. Обоим транспортным средствам.
2. Только легковому автомобилю.
3. Только автобусу.



### Вопрос 32.



Вы намерены продолжить движение прямо. Кому следует уступить дорогу.

1. Только легковому автомобилю.
2. Только автобусу и легковому автомобилю.
3. Всем транспортным средствам.

### Вопрос 33.



Вы намерены повернуть налево. Кому следует уступить дорогу.

1. Всем транспортным средствам.
2. Только легковому автомобилю.
3. Только легковому автомобилю и автобусу.

### Вопрос 34.



Вы намерены продолжить движение прямо. Кому следует уступить дорогу.

1. Только мотоциклу.
2. Только мотоциклу и легковому автомобилю.
3. Только автобусу и мотоциклу.
4. Всем транспортным средствам.

### Вопрос 35.



Вы намерены повернуть налево. Кому следует уступить дорогу.

1. Только автобусу и мотоциклу.
2. Только легковому автомобилю и автобусу.
3. Всем транспортным средствам.

### Вопрос 36.



Вы намерены повернуть налево. Кому следует уступить дорогу.

1. Обоим транспортным средствам.
2. Только легковому автомобилю.
3. Только автобусу.

### Вопрос 37.



Вы намерены повернуть налево. Кому следует уступить дорогу.

1. Только автобусу.
2. Только легковому автомобилю.
3. Обоим транспортным средствам.

### Вопрос 38.



При въезде на перекрёсток Вы:

1. Должны уступить дорогу только мотоциклу.
2. Должны уступить дорогу обоим транспортным средствам.
3. Имеете преимущественное право на движение.

### Вопрос 39.



Эти знаки, установленные перед перекрёстком, означают, что:

1. Находясь на таком перекрёстке, Вы должны будете уступать дорогу всем транспортным средствам, въезжающим на него.
2. Находясь на таком перекрёстке, Вы будете иметь преимущество перед всеми транспортными средствами,

въезжающим на него.

## Регулируемые перекрёстки.

### Вопрос 1.



Вы намерены повернуть направо. Ваши действия?

1. Остановитесь перед стоп-линией и, пропустив пешеходов, повернёте направо.
2. Выехав на перекрёсток, остановитесь перед пешеходным переходом, чтобы пропустить пешеходов.



3. Продолжите движение без остановки на перекрёстке.

### Вопрос 2.



При повороте направо Вы должны уступить дорогу:

1. Только велосипедисту.
2. Только пешеходам.
3. Пешеходам и велосипедисту.
4. Никому.

### Вопрос 3.



В каком случае Вы имеете право выехать на перекрёсток, если за ним образовался затор?

1. Только если Вы намерены совершить поворот или разворот.
2. В любом случае.

### Вопрос 4.



При включении зелёного сигнала светофора Вы должны:

1. Убедиться в отсутствии пешеходов, завершающих переход проезжей части, после чего начать движение.
2. Руководствуясь сигналом светофора, сразу начать движение.

### Вопрос 5.



При включении зелёного сигнала светофора Вы должны:

1. Уступить дорогу грузовому автомобилю, завершающему разворот на перекрёстке.
2. Начать движение, не уступая дорогу грузовому автомобилю.

### Вопрос 6.



Вы намерены повернуть налево. Ваши действия?

1. Выполните манёвр без остановки на перекрёстке.
2. Повернёте налево, остановитесь в разрыве разделительной полосы и, после включения разрешающего сигнала светофора на выходе с перекрёстка, завершите манёвр.

### Вопрос 7.



**Вы намерены повернуть налево. Ваши действия?**

1. Выполните манёвр без остановки на перекрёстке.
2. Выехав на перекрёсток, остановитесь у стоп-линии и, дождавшись зелёного сигнала светофора на разделительной полосе, завершите манёвр.

### Вопрос 8.



**Вы намерены повернуть налево. Кому следует уступить дорогу?**

1. Только встречному автомобилю.
2. Только пешеходам.
3. Встречному автомобилю и пешеходам.

### Вопрос 9.



**Вы намерены проехать перекресток в прямом направлении. Ваши действия?**

1. Проедете первым.
2. Уступите дорогу только встречному автомобилю.
3. Уступите дорогу только автомобилю с включённым проблесковым маячком и специальным звуковым сигналом.
4. Уступите дорогу обоим транспортным

средствам.

### Вопрос 10.



**Как Вы должны действовать, если Вам необходимо повернуть налево?**

1. Выехать за стоп-линию и остановиться на перекрёстке, чтобы уступить дорогу встречному автомобилю.
2. Остановиться перед стоп-линией и после проезда легкового автомобиля повернуть налево.
3. Проехать первым.

### Вопрос 11.



**Вы намерены повернуть налево. Следует ли уступить дорогу грузовому автомобилю?**

1. Да.
2. Нет.



### Вопрос 12.



**Вы намерены проехать перекрёсток в прямом направлении. Ваши действия?**

1. Проедете перекрёсток первым.
2. Уступите дорогу только трамваю.
3. Уступите дорогу трамваю и автомобилю.

### Вопрос 13.



**Вы намерены повернуть налево. Кому следует уступить дорогу.**

1. Только автомобилю.
2. Только трамваю.
3. Автомобилю и трамваю.

### Вопрос 14.



**В каком случае Вам не придётся уступать дорогу другим участникам движения?**

1. Только если Вы намерены продолжить движение прямо.
2. Только если Вы намерены продолжить движение прямо или направо.
3. В любом случае.

### Вопрос 15.



**Вы намерены повернуть направо. Ваши действия?**

1. Проедете перекрёсток первым.
2. Уступите дорогу обоим трамваям.
3. Уступите дорогу только трамваю А.
4. Уступите дорогу только трамваю Б.

### Вопрос 16.



**Вы намерены повернуть налево. Ваши действия?**

1. Уступите дорогу трамваю и, убедившись, что Ваши пути не пересекаются со встречным автомобилем, выполните поворот.

2. Проедете перекрёсток первым.

### Вопрос 17.



Вы намерены проехать перекрёсток в прямом направлении. Ваши действия?

1. Проедете перекрёсток первым.
2. Уступите дорогу трамваю.

### Вопрос 18.



Вы намерены повернуть налево. Ваши действия?

1. Уступите дорогу трамваю.
2. Проедете перекрёсток первым.
3. Дождётесь разрешающего сигнала специального светофора и только после этого повернёте.

### Вопрос 19.



Вы намерены проехать перекрёсток в прямом направлении. Ваши действия?

1. Проедете перекрёсток первым.
2. Уступите дорогу трамваю.

### Вопрос 20.



Должен ли водитель легкового автомобиля при развороте уступить дорогу автобусу?

1. Да.
2. Нет.

### Вопрос 21.

Вы намерены повернуть направо. Следует ли уступить дорогу автобусу?

1. Да.
2. Нет.





### Вопрос 22.



Вы намерены проехать перекрёсток в прямом направлении. Ваши действия?

1. Остановитесь перед стоп-линией.
2. Продолжите движение, не создавая помех легковому автомобилю.

### Вопрос 23.



Вы намерены повернуть направо. Следует ли уступить дорогу автомобилю, выполняющему разворот?

1. Да.
2. Нет.

### Вопрос 24.

Значения каких дорожных знаков отменяются сигналами светофора?

1. Знаков приоритета.
2. Запрещающих знаков.
3. Предупреждающих знаков.
4. Всех перечисленных.

### Вопрос 25.



Кто из водителей, совершающих поворот, нарушает Правила?

1. Только водитель легкового автомобиля.
2. Только мотоциклист.
3. Оба нарушают.
4. Никто не нарушает.

### Вопрос 26.



При движении прямо Вы:

1. Должны остановиться перед стоп-линией.
2. Можете продолжить движение через перекрёсток без остановки.
3. Должны уступить дорогу транспортным средствам, движущимся с других направлений.

### Вопрос 27.



Вы намерены повернуть налево. Кому следует уступить дорогу?

1. Только мотоциклу.
2. Только автомобилю с включённым проблесковым маячком и специальным звуковым сигналом.
3. Обоим транспортным средствам.

### Вопрос 28.



Вы намерены повернуть налево. Ваши действия?

1. Проедете перекрёсток первым.
2. Уступите дорогу только автомобилю с включённым проблесковым маячком и специальным звуковым сигналом.
3. Уступите дорогу обоим транспортным средствам.

### Вопрос 29.



Вы намерены повернуть налево. Кому следует уступить дорогу?

1. Только пешеходам.
2. Только автобусу.
3. Автобусу и пешеходам.
4. Никому.

### Вопрос 30.



Кто должен уступить дорогу?

1. Водитель автомобиля, приближающийся слева.
2. Водитель трамвая.

### Вопрос 31.



Вы намерены повернуть налево. Ваши действия?

1. Проедете перекрёсток первым.
2. Уступите дорогу только грузовому автомобилю с включённым проблесковым маячком.
3. Уступите дорогу только автобусу.



### Вопрос 32.



Вы намерены повернуть направо. Следует ли уступить дорогу легковому автомобилю?

1. Да.
2. Нет.

### Вопрос 33.



Разрешено ли Вам повернуть направо?

1. Да, уступив дорогу пешеходам.
2. Нет.

### Вопрос 34.



Как следует поступить в этой ситуации, если Вам необходимо повернуть направо?

1. Остановиться перед перекрёстком и, дождавшись другого сигнала регулировщика, повернуть направо.
2. Можно повернуть направо, уступив дорогу пешеходам.

### Вопрос 35.



Вы намерены повернуть налево. Ваши действия?

1. Выехав на перекрёсток, дождётесь сигнала регулировщика, разрешающего поворот, и повернёте.
2. Остановитесь у стоп-линии, дождётесь сигнала регулировщика, разрешающего поворот, и повернёте.

3. Выехав на перекрёсток, уступите дорогу встречному автомобилю и повернёте.

### Вопрос 36.



Вы намерены развернуться. Ваши действия?

1. Проедете перекрёсток первым.
2. Произведёте разворот, уступив дорогу легковому автомобилю.

### Вопрос 37.



Вы намерены повернуть направо. Ваши действия?

1. Уступите дорогу легковому автомобилю, производящему разворот.
2. Проедете перекрёсток первым.

### Вопрос 38.



Вы намерены повернуть направо. Ваши действия?

1. Уступите дорогу трамваю.
2. Проедете перекрёсток первым.

### Вопрос 39.



Вы намерены проехать перекрёсток в прямом направлении. Ваши действия?

1. Проедете перекрёсток первым.
2. Уступите дорогу трамваю.

### Вопрос 40.



Вы намерены повернуть направо. Ваши действия?

1. Уступите дорогу только трамваю А.
2. Уступите дорогу только трамваю Б.
3. Уступите дорогу обоим трамваям.
4. Проедете перекрёсток первым.

### ПРАКТИЧЕСКАЯ РАБОТА №11

Пешеходные переходы и места остановок маршрутных транспортных средств.

### Вопрос 1.

В каких случаях водитель транспортного средства, приближающийся к нерегулируемому пешеходному переходу, обязан снизить скорость или остановиться перед переходом?



1. Если пешеход переходит проезжую часть.
2. Если пешеход вступил на проезжую часть.
3. В обоих перечисленных случаях.

### Вопрос 2.

**В каком случае Вы можете продолжить движение, приближаясь к остановившемуся транспортному средству, закрывающему видимость нерегулируемого пешеходного перехода?**

1. Только после подачи звукового сигнала.
2. Только после остановки перед пешеходным переходом.
3. Только убедившись, что перед остановившимся транспортным средством нет пешеходов.

### Вопрос 3.

**Как Вы должны поступить, если сразу за пешеходным переходом образовался затор?**

1. Остановиться на пешеходном переходе, если нет пешеходов.
2. Остановиться непосредственно перед пешеходным переходом.
3. Остановиться не ближе 5 м до пешеходного перехода.

### Вопрос 4.

**Подъехав к трамваю попутного направления, остановившемуся у посадочной площадки, расположенной на проезжей части посередине дороги, Вы должны:**

1. Остановиться и продолжить движение только после закрытия дверей трамвая.
2. Уступить дорогу пешеходам, идущим к трамваю или от него.
3. Остановиться и продолжить движение только после начала движения трамвая.

## Движение через железнодорожные пути.

### Вопрос 1.



**Как Вы должны действовать в данной ситуации?**

1. Проехать железнодорожный переезд без остановки перед знаком.
2. Остановиться перед знаком и продолжить движение сразу после проезда поезда.
3. Остановиться перед знаком и продолжить движение, только убедившись в отсутствии приближающегося поезда.

### Вопрос 2.



**Как Вы должны поступить в данной ситуации?**

1. Объехать шлагбаум, так как светофор не запрещает движение.
2. Остановиться и продолжить движение только при открытом шлагбауме.

### Вопрос 3.



Разрешён ли Вам въезд на железнодорожный переезд в данной ситуации?

1. Да.
2. Да, если отсутствует приближающийся поезд.
3. Нет.

### Вопрос 4.



Разрешено ли Вам проехать железнодорожный переезд?

1. Да, так как дежурный по переезду запрещает движение только встречному автомобилю.
2. Да, если отсутствует приближающийся поезд.
3. Нет.

### Вопрос 5.



Разрешено ли Вам въехать на железнодорожный переезд?

1. Да.
2. Да, если отсутствует приближающийся поезд.
3. Нет.

### Вопрос 6.



Разрешен ли такой манёвр?

1. Да, если нет встречных транспортных средств.
2. Да, если между шлагбаумом и остановившимся грузовым автомобилем расстояние 6 м.
3. Нет.

Пешеходные переходы и места остановок маршрутных транспортных средств.

### Вопрос 1.

В каких случаях водитель транспортного средства, приближающийся к нерегулируемому пешеходному переходу, обязан снизить скорость или остановиться перед переходом?

1. Если пешеход переходит проезжую часть.
2. Если пешеход вступил на проезжую часть.
3. В обоих перечисленных случаях.



## Вопрос 2.

В каком случае Вы можете продолжить движение, приближаясь к остановившемуся транспортному средству, закрывающему видимость нерегулируемого пешеходного перехода?

1. Только после подачи звукового сигнала.
2. Только после остановки перед пешеходным переходом.
3. Только убедившись, что перед остановившимся транспортным средством нет пешеходов.

## Вопрос 3.

Как Вы должны поступить, если сразу за пешеходным переходом образовался затор?

1. Остановиться на пешеходном переходе, если нет пешеходов.
2. Остановиться непосредственно перед пешеходным переходом.
3. Остановиться не ближе 5 м до пешеходного перехода.

## Вопрос 4.

Подъехав к трамваю попутного направления, остановившемуся у посадочной площадки, расположенной на проезжей части посередине дороги, Вы должны:

1. Остановиться и продолжить движение только после закрытия дверей трамвая.
2. Уступить дорогу пешеходам, идущим к трамваю или от него.
3. Остановиться и продолжить движение только после начала движения трамвая.

## Движение через железнодорожные пути.

### Вопрос 1.



Как Вы должны действовать в данной ситуации?

1. Проехать железнодорожный переход без остановки перед знаком.
2. Остановиться перед знаком и продолжить движение сразу после проезда поезда.
3. Остановиться перед знаком и продолжить движение, только убедившись в отсутствии приближающегося поезда.

должить движение, только убедившись в отсутствии приближающегося поезда.

### Вопрос 2.



Как Вы должны поступить в данной ситуации?

1. Объехать шлагбаум, так как светофор не запрещает движение.
2. Остановиться и продолжить движение только при открытом шлагбауме.

### Вопрос 3.



Разрешён ли Вам въезд на железнодорожный переезд в данной ситуации?

1. Да.
2. Да, если отсутствует приближающийся поезд.
3. Нет.

### Вопрос 4.



Разрешено ли Вам проехать железнодорожный переезд?

1. Да, так как дежурный по переезду запрещает движение только встречному автомобилю.
2. Да, если отсутствует приближающийся поезд.
3. Нет.

### Вопрос 5.



Разрешено ли Вам въехать на железнодорожный переезд?

1. Да.
2. Да, если отсутствует приближающийся поезд.
3. Нет.

### Вопрос 6.



Разрешен ли такой манёвр?

1. Да, если нет встречных транспортных средств.
2. Да, если между шлагбаумом и остановившимся грузовым автомобилем расстояние 6 м.
3. Нет.

### Вопрос 7.



В каком месте Вы должны остановиться в данной ситуации?

1. У знака «Движение без остановки запрещено».
2. У знака «Однопутная железная дорога».
3. За 5 м до первого рельса.
4. В любом месте по своему усмотрению.

НИЮ.



### Вопрос 8.



На каком наименьшем расстоянии до ближайшего рельса Вы должны остановиться?

1. 5 м.
2. 10 м.
3. 15 м.
4. 20 м.

### Вопрос 9.

Как Вы должны поступить с пассажирами при вынужденной остановке на железнодорожном переезде?

1. Высадить людей, если принятые меры не позволяют убрать автомобиль с переезда.
2. При появлении поезда высадить людей.
3. Немедленно высадить людей.

### Вопрос 10.

Сигналом остановки для машиниста поезда служит:

1. Вытянутые в сторону руки.
2. Круговое движение рукой.
3. Поднятая вверх правая рука.
4. Поднятые вверх обе руки.

### Вопрос 7.



В каком месте Вы должны остановиться в данной ситуации?

1. У знака «Движение без остановки запрещено».
2. У знака «Однопутная железная дорога».
3. За 5 м до первого рельса.
4. В любом месте по своему усмотрению.

рению.

### Вопрос 8.



На каком наименьшем расстоянии до ближайшего рельса Вы должны остановиться?

1. 5 м.
2. 10 м.
3. 15 м.
4. 20 м.

### Вопрос 9.

**Как Вы должны поступить с пассажирами при вынужденной остановке на железнодорожном переезде?**

1. Высадить людей, если принятые меры не позволяют убрать автомобиль с переезда.
2. При появлении поезда высадить людей.
3. Немедленно высадить людей.

**Вопрос 10.**

**Сигналом остановки для машиниста поезда служит:**

1. Вытянутые в сторону руки.
2. Круговое движение рукой.
3. Поднятая вверх правая рука.
4. Поднятые вверх обе руки.

**ПРАКТИЧЕСКАЯ РАБОТА №12**

**Движение по автомагистралям.**

**Вопрос 1.**

**Разрешается ли движение по автомагистрали, если Ваше транспортное средство по техническому состоянию развивает скорость менее 40 км/ч?**

1. Разрешается.
2. Разрешается только по крайней правой полосе.
3. Запрещается.



## Вопрос 2.



Кто из водителей нарушает Правила?

1. Все водители.
2. Никто из водителей.
3. Только водитель трактора.
4. Только водитель легкового автомобиля.
5. Водители грузового автомобиля и трактора.

## Вопрос 3.



Разрешено ли Вам, управляя грузовым автомобилем, совершить опережение в данной ситуации?

1. Да, если разрешённая максимальная масса Вашего автомобиля менее 2,5 т.
2. Да, независимо от величины разрешённой максимальной массы.
3. Нет.

## Вопрос 4.

В каких местах Вам разрешено произвести остановку на автомагистрали?

1. В любых местах за пределами проезжей части.
2. Только правее линии разметки, обозначающей край проезжей части.
3. Только на специальных площадках для стоянки, обозначенных соответствующими знаками.

## Вопрос 5.



Двигаясь по автомагистрали, Вы можете произвести остановку:

1. Только через 500 м.
2. В любом месте правее линии, обозначающей край проезжей части.
3. В любом месте у края проезжей части.

## Вопрос 6.



Кто из водителей нарушил правила остановки?

1. Только водитель легкового автомобиля.
2. Только водитель грузового автомобиля.
3. Оба нарушили.

### Вопрос 7.



В каком случае на автомагистрали Вам разрешено остановиться вее линии, обозначающей край проезжей части?

1. В любом случае.
2. Только в светлое время суток.
3. Только в случае вынужденной остановки.

### Вопрос 8.



Нарушил ли водитель Правила при вынужденной остановке на автомагистрали?

1. Да.
2. Да, если не выставил знак аварийной остановки.
3. Нет.

### Вопрос 9.



Кто из водителей нарушает правила разворота на автомагистрали?

1. Только водитель легкового автомобиля.
2. Только водитель грузового автомобиля, выполняющего ремонтные или уборочные работы.
3. Оба нарушают.
4. Оба не нарушают.

### Вопрос 10.

Разрешается ли движение задним ходом на автомагистрали?

1. Разрешается.
2. Разрешается, если Ваше транспортное средство находится правее сплошной линии разметки, обозначающей край проезжей части на автомагистрали.
3. Запрещается.

### Вопрос 11.

На каких участках автомагистрали запрещается движение задним ходом?

1. На всём протяжении дороги запрещено.
2. Только в местах въезда или выезда с неё.
3. Только в местах остановок маршрутных транспортных средств.
4. На всём протяжении дороги разрешено.

### Вопрос 12.



**Разрешается ли учебная езда на автомагистрали?**

1. Разрешается.
2. Разрешается только по крайней правой полосе.
3. Запрещается.

### Вопрос 13.



**Можно ли обучать вождению на этой дороге?**

1. Можно, используя для движения только правую полосу проезжей части.
2. Можно только при наличии данного опознавательного знака.
3. Нельзя.

**Движение в жилых зонах.**

### Вопрос 1.

**С какой максимальной скоростью разрешено движение транспортных средств в жилых зонах и на дворовых территориях?**

1. 10 км/ч.
2. 20 км/ч.
3. 40 км/ч.

### Вопрос 2.



**С какой максимальной скоростью Вы можете продолжить движение за знаком?**

1. 60 км/ч.
2. 50 км/ч.
3. 30 км/ч.
4. 20 км/ч.

### Вопрос 3.

**Где могут двигаться пешеходы в жилой зоне?**

1. Только по тротуарам.
2. По тротуарам и в один ряд по краю проезжей части.
3. По тротуарам и по всей ширине проезжей части.

### Вопрос 4.

**Какие действия запрещены в жилой зоне?**

1. Только сквозное движение.
2. Только учебная езда.
3. Только стоянка с работающим двигателем.
4. Все перечисленные действия.



### Вопрос 5.

Должны ли Вы уступить дорогу грузовому автомобилю?

1. Да.
2. Нет.

### Вопрос 6.

В каких случаях при выезде из жилой зоны Вы должны уступить дорогу транспортным средствам?

1. Во всех случаях.
2. Только при наличии знака «Уступите дорогу».
3. Только если другое транспортное средство приближается к Вам справа.

Приоритет маршрутных транспортных средств.

### Вопрос 1.



Кто из водителей должен уступить дорогу трамваю?

1. Оба водителя.
2. Только водитель грузового автомобиля.
3. Только водитель легкового автомобиля.
4. Никто из водителей.

### Вопрос 2.



Разрешено ли Вам на легковом автомобиле продолжить движение по правой полосе?

1. Разрешено, если скорость грузового автомобиля менее 30 км/ч.
2. Разрешено, если при этом не будет создано помех движению маршрутных транспортных средств.
3. Запрещено.

### Вопрос 3.




Разрешена ли Вам остановка в указанном месте?

1. Запрещена.
2. Разрешена только для посадки и высадки пассажиров.



3. Разрешена, если не будут созданы помехи движению маршрутных транспортных средств.

#### Вопрос 4.



Кто из водителей правильно остановился для высадки пассажиров?

1. Только А.
2. Только В.
3. А и Б.
4. Б и В.

#### Вопрос 5.



По какой траектории можно продолжить движение направо?

1. Только по А.
2. Только по Б.
3. По А и Б.
4. По Б и В.
5. По любой.

#### Вопрос 6.



В данной ситуации Вы:

1. Должны уступить дорогу автобусу, начинающему движение от обозначенного места остановки.
2. Имеете преимущество, так как водитель автобуса начинает движение с выездом на вторую полосу.

#### Вопрос 7.

Обязаны ли Вы уступить дорогу маршрутному транспортному средству, отъезжающему от тротуара, где нет обозначенного места остановки.

1. Да.
2. Нет.

### Пользование внешними световыми приборами.

#### Вопрос 1.

Какие световые приборы Вы обязаны использовать при движении в светлое время суток?

1. Дневные ходовые огни или габаритные огни.
2. Фары ближнего света или габаритные огни.
3. Фары ближнего света или дневные ходовые огни.

### **Вопрос 2.**

**Какие внешние световые приборы должны быть включены на транспортном средстве при движении в светлое время суток?**

1. Только дневные ходовые огни.
2. Только фары ближнего света.
3. Только противотуманные фары.
4. Любые из перечисленных.

### **Вопрос 3.**

**Какие внешние световые приборы должны быть включены в светлое время суток на мотоциклах?**

1. Только габаритные огни.
2. Фара ближнего света или противотуманная фара.
3. Включение внешних световых приборов днём на мотоциклах не предусмотрено.

### **Вопрос 4.**

**В каких случаях Вы обязаны включать в светлое время суток фары ближнего света?**

1. Только при движении вне населённого пункта.
2. При движении по любым дорогам.

### **Вопрос 5.**

**Разрешается ли использовать в светлое время суток противотуманные фары вместо ближнего света фар?**

1. Не разрешается.
2. Разрешается, кроме случаев движения в тоннелях и в условиях недостаточной видимости.
3. Разрешается.

### **Вопрос 6.**

**Дневные ходовые огни предназначены для:**

1. Улучшения видимости движущегося транспортного средства в светлое время суток как спереди, так и сзади.
2. Улучшения видимости движущегося транспортного средства в светлое время суток только спереди.
3. Улучшения видимости движущегося транспортного средства в светлое время суток только сзади.

### **Вопрос 7.**

**Какие внешние световые приборы должны быть включены в тоннеле с искусственным освещением?**

1. Фары ближнего света или габаритные огни.
2. Фары ближнего света или дневные ходовые огни.
3. Фары ближнего или дальнего света.

### **Вопрос 8.**



**Какие внешние световые приборы Вы должны использовать при движении в тёмное время суток на освещённых участках дорог населённого пункта?**

1. Только габаритные огни.
2. Фары ближнего света или габаритные огни.
3. Только фары ближнего света.

#### **Вопрос 9.**

**Какие внешние световые приборы Вы можете использовать при движении в тёмное время суток на неосвещённых участках дорог?**

1. Только фары ближнего света.
2. Только фары дальнего света.
3. Фары ближнего или дальнего света.

#### **Вопрос 10.**

**На каком расстоянии до встречного транспортного средства Вы должны переключить дальний свет фар на ближний?**

1. Не менее чем за 150 м.
2. Не менее чем за 300 м.
3. По усмотрению водителя.

#### **Вопрос 11.**

**Обязаны ли Вы переключить дальний свет фар на ближний, если водитель встречного транспортного средства периодическим переключением фар покажет необходимость этого?**

1. Обязаны, только если расстояние до встречного транспортного средства менее 150 м.
2. Обязаны, даже если расстояние до встречного транспортного средства более 150 м.
3. Не обязаны.

#### **Вопрос 12.**

**Двигаясь в тёмное время суток вне населённого пункта с дальним светом фар, вы догнали движущееся впереди Вас транспортное средство. Ваши действия?**

1. Оставьте включёнными габаритные огни, выключив дальний свет фар.
2. Переключите дальний свет фар на ближний.
3. Допускаются оба варианта действий.

#### **Вопрос 13.**

**Как Вы должны поступить при ослеплении дальним светом фар встречных или попутно движущихся транспортных средств?**

1. Принять вправо (в сторону обочины) и остановиться.
2. Включить аварийную сигнализацию и, не меняя полосы движения, снизить скорость и остановиться.
3. Подавая звуковой сигнал, остановиться.

#### **Вопрос 14.**

**При движении в условиях недостаточной видимости Вы можете использовать противотуманные фары:**

1. Как отдельно, так и совместно с ближним или дальним светом фар.
2. Только отдельно от ближнего или дальнего света фар.
3. Только совместно с ближним или дальним светом фар.

#### **Вопрос 15.**

**Вы можете использовать противотуманные фары совместно с ближним или дальним светом фар:**

1. Только в условиях недостаточной видимости.
2. Только в тёмное время суток на неосвещённых участках дорог.
3. В обоих перечисленных случаях.

#### **Вопрос 16.**

**Вы можете использовать задние противотуманные фонари:**

1. Только в условиях недостаточной видимости.
2. Только при движении в тёмное время суток.
3. В обоих перечисленных случаях.

#### **Вопрос 17.**

**Противотуманные фары и задние противотуманные фонари могут быть включены одновременно:**

1. Только в тумане.
2. В условиях недостаточной видимости.
3. В условиях ограниченной видимости.

#### **Вопрос 18.**

**Достаточно ли в светлое время суток включения дневных ходовых огней для обозначения транспортного средства при движении в тумане?**

1. Достаточно.
2. Недостаточно.

#### **Вопрос 19.**

**При остановке и стоянке на неосвещённых участках дорог в тёмное время суток Вы должны:**

1. Включить габаритные огни.
2. Включить фары ближнего света.
3. Выставить знак аварийной остановки.

#### **Вопрос 20.**

**В каких случаях разрешено применять звуковые сигналы в населённых пунктах?**

1. Только для предупреждения о намерении произвести обгон.
2. Только для предотвращения дорожно-транспортного происшествия.
3. В обоих перечисленных случаях.

#### **Вопрос 21.**

**Как вы можете в светлое время суток привлечь внимание водителя обгоняемого автомобиля при движении в населённом пункте?**

1. Только звуковым сигналом.
2. Только кратковременным переключением фар с ближнего света на дальний.
3. Любым из перечисленных способов, включая совместную подачу этих сигналов.

#### **Вопрос 22.**

**Как вы можете в светлое время суток привлечь внимание водителя обгоняемого автомобиля при движении вне населённого пункта?**

1. Только звуковым сигналом.
2. Только кратковременным переключением фар с ближнего света на дальний.
3. Любым из перечисленных способов, включая совместную подачу этих сигналов.



### Вопрос 23.



А



Б



В

В зоне действия каких знаков Правила разрешают подачу звуковых сигналов только для предотвращения дорожно-транспортных происшествий?

1. Только А.
2. Только Б.
3. А и Б.

4. А и В.

### Буксировка механических транспортных средств.

#### Вопрос 1.

Разрешено ли Вам перевозить людей в буксируемом легковом автомобиле?

1. Разрешено.
2. Разрешено только при буксировке на гибкой или жёсткой сцепке.
3. Запрещено.

#### Вопрос 2.

Разрешена ли Вам перевозка людей в салоне легкового автомобиля, буксирующего неисправное транспортное средство?

1. Разрешена.
2. Разрешена только при буксировке на жёсткой сцепке.
3. Запрещена.

#### Вопрос 3.

Какое расстояние должно быть обеспечено между буксирующим и буксируемым транспортными средствами при буксировке на гибкой сцепке?

1. Не более 4 м.
2. От 4 до 6 м.
3. Правилами не регламентируется.

#### Вопрос 4.

Какое расстояние должно быть обеспечено между буксирующим и буксируемым транспортными средствами при буксировке на жёсткой сцепке?

1. Не более 4 м.
2. От 4 до 6 м.
3. Правилами не регламентируется.

#### Вопрос 5.

В каких из перечисленных случаев запрещена буксировка на гибкой сцепке?

1. Только на горных дорогах.
2. Только в гололедицу.
3. Только в тёмное время суток и в условиях недостаточной видимости.
4. Во всех перечисленных случаях.

#### Вопрос 6.

**Разрешается ли буксировка в гололедицу, если у буксируемого транспортного средства исправны тормоза и рулевое управление?**

1. Разрешается любым способом.
2. Разрешается на жёсткой сцепке и методом частичной погрузки.
3. Не разрешается

#### **Вопрос 7.**

**Разрешается ли Вам буксировать автомобиль с недействующей тормозной системой, если фактическая масса этого автомобиля превышает половину фактической массы вашего автомобиля?**

1. Разрешается.
2. Разрешается только при скорости буксировки не более 30 км/ч.
3. Не разрешается.

#### **Вопрос 8.**

**Разрешено ли буксировка мотоцикла с боковым прицепом?**

1. Да.
2. Нет

**Учебная езда.**

#### **Вопрос 1.**

**Какие из перечисленных требований предъявляются к обучаемому, допущенному к учебной езде на дорогах?**

1. Возраст не менее 16 лет.
2. Наличие первоначальных навыков управления.
3. Знание Правил дорожного движения.
4. Все перечисленные требования.

### **ПРАКТИЧЕСКАЯ РАБОТА №13**

**Перевозка людей.**

#### **Вопрос 1.**

**Какие из перечисленных требований являются обязательными при перевозке детей?**



1. Запрещается перевозка детей до 12-летнего возраста на переднем сиденье легкового автомобиля без использования детских удерживающих устройств.
2. Запрещается перевозка детей до 12-летнего возраста на заднем сиденье мотоцикла.
3. Оба требования являются обязательными.

### Вопрос 2.

Разрешена ли перевозка детей до 12-летнего возраста на переднем сиденье легкового автомобиля?

1. Запрещена.
2. Разрешена только с использованием детских удерживающих устройств.
3. Разрешена только на руках у взрослых.

### Вопрос 3.

Разрешается ли перевозка людей в прицепе-даче?

1. Не разрешается.
2. Разрешается.
3. Разрешается при наличии места для сидения.

Перевозка грузов.

### Вопрос 1.

Перевозка груза запрещается, если он:

1. Выступает более чем на один метр за габариты транспортного средства спереди или сзади.
2. Закрывает внешние световые приборы, световозвращатели, регистрационные и опознавательные знаки.
3. Установлен на сиденье для пассажиров.

### Вопрос 2.

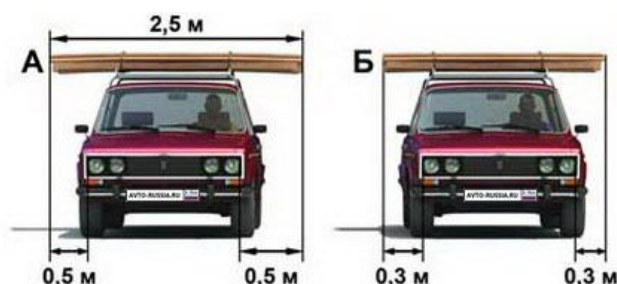


На каком рисунке изображён автомобиль, водитель которого не нарушает правил перевозки грузов?

1. Только на А.
2. Только на Б.
3. На обоих.

• AVTO-RUSSIA.RU • ДОБЕДД МВД РФ • AVTO-RUSSIA.RU • ДОБЕДД МВД РФ • AVTO-RUSSIA.RU •

### Вопрос 3.



На каком рисунке изображён автомобиль, водитель которого не нарушает правил перевозки грузов?

1. Только на А.
2. Только на Б.
3. На обоих.

### ПРАКТИЧЕСКАЯ РАБОТА №14

Неисправности и условия, при которых запрещается эксплуатация транспортных средств.

### Вопрос 1.

**При возникновении какой неисправности Вам запрещено дальнейшее движение даже до места ремонта или стоянки?**

1. Неисправна рабочая тормозная система.
2. Неисправна система выпуска отработавших газов.
3. Не работает стеклоомыватель.

#### **Вопрос 2.**

**При возникновении какой неисправности Вам запрещено дальнейшее движение даже до места ремонта или стоянки?**

1. Не работает стеклоподъёмник.
2. Неисправно рулевое управление.
3. Неисправен глушитель.

#### **Вопрос 3.**

**В каком случае Вам запрещается дальнейшее движение на автомобиле с прицепом даже до места ремонта или стоянки?**

1. Не установлен опознавательный знак автопоезда.
2. Отсутствуют предусмотренные конструкцией зеркала заднего вида.
3. Неисправно сцепное устройство.

#### **Вопрос 4.**

**При какой неисправности Вам запрещено дальнейшее движение на транспортном средстве во время дождя или снегопада?**

1. Не работают в установленном режиме стеклоочистители.
2. Не действует стеклоочиститель со стороны водителя.
3. Не работают предусмотренные конструкцией транспортного средства стеклоомыватели.

#### **Вопрос 5.**

**В каких случаях Вам запрещается дальнейшее движение даже до места ремонта или стоянки с негорящими (из-за неисправности) фарами и задними габаритными огнями.**

1. Только в условиях недостаточной видимости.
2. Только в тёмное время суток.
3. В обоих перечисленных случаях.

#### **Вопрос 6.**

**Разрешается ли Вам движение до места ремонта или стоянки в тёмное время суток с негорящими (из-за неисправности) фарами и задними габаритными огнями.**

1. Запрещается только на дорогах без искусственного освещения.
2. Запрещается.
3. Разрешается.

#### **Вопрос 7.**

**При каком значении суммарного люфта в рулевом управлении допускается эксплуатация легкового автомобиля?**

1. Не более 10 градусов.
2. Не более 20 градусов.
3. Не более 25 градусов.



### **Вопрос 8.**

**При какой неисправности тормозной системы Вам запрещается эксплуатация транспортного средства?**

1. Не включается контрольная лампа стояночной тормозной системы.
2. Стояночная тормозная система не обеспечивает неподвижное состояние транспортного средства с полной нагрузкой на уклоне до 16% включительно.
3. Уменьшен свободный ход педали тормоза.

### **Вопрос 9.**

**Какая наименьшая величина остаточной высоты рисунка протектора допускается при эксплуатации легкового автомобиля?**

1. 0,8 мм.
2. 1 мм.
3. 1,6 мм.
4. 2,0 мм.

### **Вопрос 10.**

**Какая наименьшая величина остаточной высоты рисунка протектора допускается при эксплуатации мотоцикла?**

1. 0,8 мм.
2. 1 мм.
3. 1,6 мм.
4. 2,0 мм.

### **Вопрос 11.**

**Разрешается ли Вам устанавливать на одну ось легкового автомобиля шины с различным рисунком протектора?**

1. Разрешается на любую ось.
2. Разрешается только на заднюю ось.
3. Не разрешается.

### **Вопрос 12.**

**Разрешается ли устанавливать на транспортном средстве ошипованные шины совместно с неошипованными?**

1. Разрешается.
2. Разрешается только на разные оси.
3. Запрещается.

### **Вопрос 13.**

**В каком случае Вам разрешается эксплуатация автомобиля?**

1. Шины имеют отслоение протектора или боковины.
2. Шины имеют порезы, обнажающие корд.
3. На заднюю ось автомобиля установлены шины с восстановленным рисунком протектора.

### **Вопрос 14.**

**В каком случае Вам разрешается эксплуатация транспортного средства?**

1. Загрязнены внешние световые приборы.
2. Нарушена регулировка фар.
3. На световых приборах используются рассеиватели, не соответствующие типу данного светового прибора.

4. Отсутствуют противотуманные фары.

#### **Вопрос 15.**

**В каком случае Вам разрешается эксплуатация автомобиля?**

1. Не работают в установленном режиме стеклоочистители.
2. Не работают стеклоомыватели.
3. Не работает стеклоподъёмник.

#### **Вопрос 16.**

**Как Вы должны поступить, если во время движения отказал в работе спидометр?**

1. Продолжить намеченную поездку с особой осторожностью.
2. Прекратить дальнейшее движение.
3. Попытаться устранить неисправность на месте, а если это невозможно, то следовать к месту стоянки или ремонта с соблюдением необходимых мер предосторожности.

#### **Вопрос 17.**

**В каком случае Вам запрещается эксплуатация автомобиля?**

1. Не работает указатель уровня топлива.
2. Нарушена регулировка угла опережения зажигания.
3. Затруднён пуск двигателя.
4. Не работает звуковой сигнал.

#### **Вопрос 18.**

**При какой неисправности Вам разрешается эксплуатация транспортного средства?**

1. Не работают запоры горловин топливных баков.
2. Не работает механизм регулировки сиденья водителя.
3. Не работает устройство обогрева и обдува стекла.
4. Не работает стеклоподъёмник.

#### **Вопрос 19.**

**В каком случае Вам запрещается эксплуатация транспортного средства?**

1. Двигатель не развивает максимальной мощности.
2. Двигатель неустойчиво работает на холостых оборотах.
3. Имеется неисправность в глушителе.

#### **Вопрос 20.**

**В каких случаях Вам разрешается эксплуатация транспортного средства?**

1. Содержание вредных веществ в отработавших газах или дымность превышают установленные нормы.
2. Негерметична топливная система.
3. Не работает указатель температуры охлаждающей жидкости.

#### **Вопрос 21.**

**Вы имеете право эксплуатировать легковой автомобиль при отсутствии:**

1. Аптечки.
2. Огнетушителя.
3. Знака аварийной остановки.
4. Противооткатных упоров.



### **Вопрос 22.**

**Какие из перечисленных транспортных средств разрешается эксплуатировать без огнетушителя?**

1. Автомобили.
2. Автобусы.
3. Все мотоциклы.
4. Только мотоциклы без бокового прицепа.

### **Вопрос 23.**

**Какие из перечисленных транспортных средств разрешается эксплуатировать без медицинской аптечки?**

1. Автомобили.
2. Автобусы.
3. Все мотоциклы.
4. Только мотоциклы без бокового прицепа.

### **Вопрос 24.**

**Разрешается ли устанавливать шторки или жалюзи на заднем стекле легкового автомобиля?**

1. Разрешается только при наличии с обеих сторон зеркал заднего вида.
2. Запрещается.

### **Вопрос 25.**

**В каком случае Вам разрешается эксплуатация легкового автомобиля?**

1. Не работает спидометр.
2. Не работает указатель температуры охлаждающей жидкости.
3. Не работает предусмотренное конструкцией противоугонное устройство.

### **Вопрос 26.**

**В каких случаях запрещается эксплуатация мотоцикла?**

1. При отсутствии предусмотренных конструкцией дуг безопасности, подножек, поперечных рукояток для пассажиров на седле.
2. Только при отсутствии предусмотренных конструкцией дуг безопасности.
3. Только при отсутствии предусмотренных конструкцией подножек, поперечных рукояток для пассажиров на седле.

## **ПРАКТИЧЕСКАЯ РАБОТА №15**

**Основы безопасного управления транспортными средствами.**

### **Вопрос 1.**

**Зависит ли выбор бокового интервала от скорости движения?**

1. Выбор бокового интервала от скорости движения не зависит.
2. При увеличении скорости боковой интервал необходимо увеличить.

### **Вопрос 2.**

**В каких случаях следует увеличить боковой интервал?**

1. При встречном разъезде на большой скорости.
2. При разъезде с длинномерным транспортным средством.
3. При движении по мокрому, скользкому или неровному покрытию.
4. Во всех перечисленных случаях.

### **Вопрос 3.**

**Какое расстояние проедет транспортное средство за одну секунду при скорости движения около 90 км/ч?**

1. Примерно 15 м.
2. Примерно 25 м.
3. Примерно 35 м.

### **Вопрос 4.**

**Безопасной дистанцией при движении по сухой дороге на легковом автомобиле можно считать расстояние, которое пройдёт автомобиль не менее чем за:**

1. 1 секунду.
2. 2 секунды.
3. 3 секунды.

### **Вопрос 5.**

**При движении в плотном потоке Вы заметили сзади транспортное средство, движущееся на слишком малой дистанции. Как следует поступить, чтобы обеспечить безопасность движения?**

1. Увеличить скорость движения, уменьшив дистанцию до движущегося впереди транспортного средства.
2. Предупредить следующего сзади водителя резким кратковременным торможением.
3. Скорректировать скорость движения, ослабив нажатие на педаль газа, чтобы увеличить дистанцию до движущегося впереди транспортного средства.
4. Допускается любое из вышеперечисленных действий.

### **Вопрос 6.**

**Что подразумевается под остановочным путём?**

1. Расстояние, пройденное транспортным средством с момента обнаружения водителем опасности до полной остановки.
2. Расстояние, пройденное транспортным средством с момента начала срабатывания тормозного привода до полной остановки.
3. Расстояние, соответствующее тормозному пути, определённому технической характеристикой данного транспортного средства.

### **Вопрос 7.**

**Что подразумевается под временем реакции водителя?**

1. Время с момента обнаружения водителем опасности до полной остановки транспортного средства.
2. Время с момента обнаружения водителем опасности до начала принятия мер по её избежанию.
3. Время, необходимое для переноса ноги с педали подачи топлива на педаль тормоза.



### **Вопрос 8.**

**Принято считать, что среднее время реакции водителя составляет:**

1. Примерно 0,5 секунды.
2. Примерно 1 секунду.
3. Примерно 2 секунды.

### **Вопрос 9.**

**Уменьшение тормозного пути транспортного средства достигается:**

1. Торможением с блокировкой колёс (юзом).
2. Торможением на грани блокировки способом прерывистого нажатия на педаль тормоза.

### **Вопрос 10.**

**Как правильно произвести экстренное торможение, если Ваш автомобиль оборудован антиблокировочной тормозной системой?**

1. Тормозить прерывистым нажатием на педаль тормоза, не допуская блокировки колёс.
2. Нажать на педаль тормоза до упора и удерживать её до полной остановки.

### **Вопрос 11.**

**Как правильно произвести экстренное торможение на скользкой дороге, если Ваш автомобиль не оборудован антиблокировочной тормозной системой?**

1. Нажать на педаль тормоза до упора и удерживать её до полной остановки.
2. Тормозить прерывистым нажатием на педаль тормоза, не допуская блокировки колёс.

### **Вопрос 12.**

**Как изменяется длина тормозного пути легкового автомобиля при движении с прицепом, не имеющим тормозной системы?**

1. Уменьшается, так как прицеп оказывает дополнительное сопротивление движению.
2. Увеличивается.
3. Не изменяется.

### **Вопрос 13.**

**Чем опасно длительное торможение с выключенным сцеплением (передачей) на крутом спуске?**

1. Значительно увеличивается износ протектора шин.
2. Повышается износ деталей тормозных механизмов.
3. Перегреваются тормозные механизмы, и уменьшается эффективность торможения.

### **Вопрос 14.**

**При торможении двигателем на крутом спуске водитель должен выбирать передачу, исходя из условий:**

1. Чем круче спуск, тем выше передача.
2. Чем круче спуск, тем ниже передача.
3. Выбор передачи не зависит от крутизны спуска.

### **Вопрос 15.**

При движении в условиях плохой видимости нужно выбирать скорость, исходя из того, чтобы остановочный путь был:

1. Больше расстояния видимости.
2. Меньше расстояния видимости.

#### Вопрос 16.

Считаете ли Вы безопасным движение на легковом автомобиле в тёмное время суток с ближним светом фар по неосвещенной загородной дороге со скоростью 90 км/ч?

1. Да, так как предельная допустимая скорость соответствует требованиям Правил.
2. Нет, так как остановочный путь превышает расстояние видимости.

#### Вопрос 17.

Как изменяется поле зрения водителя с увеличением скорости движения?

1. Не изменяется.
2. Расширяется.
3. Сужается.

#### Вопрос 18.

Как воспринимается водителем скорость автомобиля при длительном движении по равнинной дороге на большой скорости?

1. Кажется меньше, чем в действительности.
2. Кажется больше, чем в действительности.
3. Восприятие скорости не меняется.

#### Вопрос 19.

В тёмное время суток и пасмурную погоду скорость встречного автомобиля воспринимается:

1. Ниже, чем в действительности.
2. Выше, чем в действительности.
3. Восприятие скорости не меняется.

#### Вопрос 20.



При движении в условиях тумана расстояние до предметов представляется:

1. Большим, чем в действительности.
2. Меньшим, чем в действительности.
3. Соответствующим действительности.

#### Вопрос 21.

Вероятность возникновения аварийной ситуации при движении в плотном транспортном потоке будет меньше, если скорость Вашего транспортного средства:

1. Значительно меньше средней скорости потока.
2. Значительно больше средней скорости потока.




3. Равна средней скорости потока.

#### Вопрос 22.

На каком рисунке показано правильное положение рук на рулевом колесе?

1. На левом.
2. На среднем.
3. На правом.

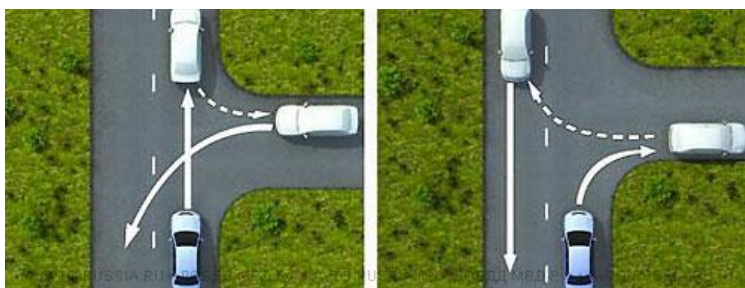
**Вопрос 23.**



На каком рисунке показан безопасный способ разворота вне перекрёстка с использованием прилегающей территории слева?

1. На левом.
2. На правом.

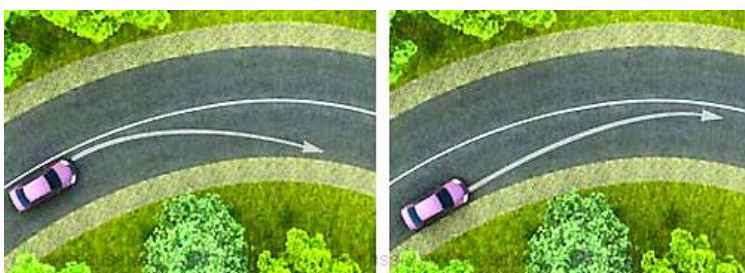
**Вопрос 24.**



На каком рисунке показан безопасный способ разворота вне перекрёстка с использованием прилегающей территории справа?

1. На левом.
2. На правом.

**Вопрос 25.**



На каком рисунке водитель выполняет правый поворот по траектории, обеспечивающей наибольшую безопасность движения?

1. На правом.
2. На левом.

**Вопрос 26.**



На каком рисунке водитель выполняет левый поворот по траектории, обеспечивающей наибольшую безопасность движения?

1. На правом.
2. На левом.

**Вопрос 27.**

В какую сторону смещается прицеп автопоезда на повороте?

1. Не смещаться.
2. Смещается к центру поворота.
3. Смещается от центра поворота.

**Вопрос 28.**



После длительного движения на безопасной дистанции за грузовым автомобилем по двухполосной до-



роге у Вас появилась возможность совершить обгон. Ваши действия?

1. Максимально приблизитесь к обгоняемому автомобилю, затем перестроитесь на полосу встречного движения и совершите манёвр.
2. Перестроитесь на полосу встречного движения, после чего произведёте сближение с обгоняемым транспортным средством.
3. Допустимы оба варианта действия.

### Вопрос 29.

В каком из перечисленных случаев длина пути обгона будет больше?

1. При скорости движения обгоняемого транспортного средства 40 км/ч и обгоняющего 60 км/ч.
2. При скорости движения обгоняемого транспортного средства 70 км/ч и обгоняющего 90 км/ч.
3. Длина пути обгона в обоих случаях будет одинакова.


### Вопрос 30.



Для предупреждения скатывания автомобиля при остановке на подъёме (спуске) водителю следует повернуть передние колёса. Водители каких транспортных средств правильно выполнили это требование при наличии тротуара?

1. А и Г.
2. Б и В.
3. А и В.
4. Б и Г.

### Вопрос 31.



Для обеспечения безопасности при остановке на подъёме (спуске) водителю следует повернуть передние колёса. Водители каких транспортных средств правильно выполнили это требование при отсутствии тротуара?

1. А и Г.
2. Б и В.
3. А и В.
4. Б и Г.

### Вопрос 32.

В какой момент следует начинать отпускать стояночный тормоз при трогании на подъёме?

1. До начала движения.
2. После начала движения.
3. Одновременно с началом движения.

### Вопрос 33.

В каких случаях легковой автомобиль более устойчив против опрокидывания на повороте?

1. Без груза и пассажиров.
2. С пассажирами, но без груза.
3. Без пассажиров, но с грузом на верхнем багажнике.

#### **Вопрос 34.**

**Как изменяется величина центробежной силы с увеличением скорости движения на повороте?**

1. Не изменяется.
2. Увеличивается пропорционально скорости.
3. Увеличивается пропорционально квадрату скорости.

#### **Вопрос 35.**

**Какие действия водителя приведут к уменьшению центробежной силы, возникающей на повороте?**

1. Увеличение скорости движения.
2. Уменьшение скорости движения.
3. Уменьшение радиуса прохождения поворота.

#### **Вопрос 36.**

**Что следует сделать водителю, чтобы предотвратить возникновение заноса при проезде крутого поворота?**

1. Перед поворотом снизить скорость и выжать педаль сцепления, чтобы дать возможность автомобилю двигаться накатом на повороте.
2. Перед поворотом снизить скорость, при необходимости включить пониженную передачу, а при проезде поворота не увеличивать резко скорость и не тормозить.
3. Допускается любое из перечисленных действий.

#### **Вопрос 37.**

**Для предотвращения заноса, вызванного торможением, водитель в первую очередь должен:**

1. Прекратить начатое торможение.
2. Выключить сцепление.
3. Продолжить торможение, не изменяя усилия на педаль.

#### **Вопрос 38.**

**Как водитель должен воздействовать на педаль управления подачей топлива при возникновении заноса, вызванного резким ускорением движения?**

1. Усилить нажатие на педаль.
2. Не менять положения педали.
3. Уменьшить нажатие на педаль.

#### **Вопрос 39.**

**Что следует предпринять водителю для предотвращения опасных последствий заноса автомобиля при резком повороте рулевого колеса на скользкой дороге?**

1. Быстро, но плавно повернуть рулевое колесо в сторону заноса, затем опережающим воздействием на рулевое колесо выровнять траекторию движения автомобиля.
2. Выключить сцепление.
3. Нажать на педаль тормоза.

#### **Вопрос 40.**

При движении на каком автомобиле увеличение скорости может способствовать устранению заноса задней оси?

1. На переднеприводном.
2. На заднеприводном.

#### Вопрос 41.

На повороте возник занос задней оси заднеприводного автомобиля. Ваши действия?

1. Увеличите подачу топлива, рулевым колесом стабилизирую движение.
2. Притормозите и повернёте рулевое колесо в сторону заноса.
3. Значительно уменьшите подачу топлива, не меняя положение рулевого колеса.
4. Слегка уменьшите подачу топлива и повернёте рулевое колесо в сторону заноса.

#### Вопрос 42.

На повороте возник занос задней оси переднеприводного автомобиля. Ваши действия?

1. Увеличите подачу топлива, рулевым колесом стабилизирую движение.
2. Притормозите и повернёте рулевое колесо в сторону заноса.
3. Значительно увеличите подачу топлива, не меняя положение рулевого колеса.
4. Слегка увеличите подачу топлива и повернёте рулевое колесо в сторону заноса.

#### Вопрос 43.

Исключает ли антиблокировочная тормозная система (АБС) возможность возникновения заноса или сноса при прохождении поворота?

1. Полностью исключает возникновение только заноса.
2. Полностью исключает возникновение только сноса.
3. Не исключает возможность возникновения сноса или заноса.

#### Вопрос 44.

Какие преимущества даёт Вам использование зимних шин в холодное время года?

1. Исключается возможность возникновения заноса.
2. Появляется возможность в любых погодных условиях двигаться с максимально допустимой скоростью.
3. Уменьшается возможность проскальзывания и пробуксовки колёс на скользком покрытии.

#### Вопрос 45.

При движении по какому участку дороги действие сильного бокового ветра наиболее опасно?

1. По открытому.
2. По закрытому деревьями.
3. При выезде с закрытого участка на открытый.

#### Вопрос 46.



При выезде из лесистого участка на открытое место установлен знак «Боковой ветер». Ваши действия?

1. Уменьшить скорость и быть готовым к возможному отклонению автомобиля от заданного курса.
2. Не изменяя скорости, сместиться

ближе к центру дороги.



3. Не изменяя скорости, сместиться ближе к обочине.

#### **Вопрос 47.**

**Двигаться по глубокому снегу на грунтовой дороге следует:**

1. Изменяя скорость движения и передачу в зависимости от состояния дороги.
2. На заранее выбранной пониженной передаче без резких поворотов и остановок.

#### **Вопрос 48.**

**В случае, когда правые колёса автомобиля наезжают на неукреплённую влажную обочину, рекомендуется:**

1. Затормозить и полностью остановиться.
2. Затормозить и плавно направить автомобиль в левую сторону.
3. Не прибегая к торможению, плавно вернуть автомобиль на проезжую часть.

#### **Вопрос 49.**

**Двигаясь в прямом направлении со скоростью 60 км/ч, Вы внезапно попали на небольшой участок скользкой дороги. Что следует предпринять?**

1. Плавно затормозить.
2. Не менять траектории и скорости движения.

#### **Вопрос 50.**

**Как следует поступить водителю, если во время движения по сухой дороге с асфальтобетонным покрытием начал моросить дождь?**

1. Уменьшить скорость и быть особенно осторожным.
2. Не меняя скорости, продолжить движение.
3. Увеличить скорость и попытаться проехать как можно большее расстояние, пока не начался сильный дождь.

#### **Вопрос 51.**

**Как должен поступить водитель в случае потери сцепления колёс с дорогой из-за образования «водяного клина».**

1. Увеличить скорость.
2. Снизить скорость резким нажатием на педаль тормоза.
3. Снизить скорость, применяя торможение двигателем.

#### **Вопрос 52.**

**Что должен сделать водитель, чтобы быстро восстановить эффективность тормозов после проезда через водную преграду?**

1. Продолжить движение, немного натянув рычаг ручного тормоза.
2. Продолжить движение и просушить тормозные колодки многократными непродолжительными нажатиями на педаль тормоза.
3. Продолжить движение с малой скоростью без притормаживания.

#### **Вопрос 53.**

**Включение каких внешних световых приборов обеспечит Вам наилучшую видимость дороги при движении ночью во время сильной метели?**

1. Противотуманных фар совместно с дальним светом фар.
2. Противотуманных фар совместно с ближним светом фар.

#### **Вопрос 54.**

При приближении к вершине подъёма в тёмное время суток водителю рекомендуется переключить дальний свет фар на ближний:

1. Только при появлении встречного транспортного средства.
2. Всегда при приближении к вершине подъёма.

#### Вопрос 55.



Что Вам следует иметь в виду, увидев впереди пешехода, переходящего проезжую часть?

1. Что он может перейти дорогу, не меняя своего темпа движения или ускориться.
2. Что он может внезапно остановиться или отступить назад.

3. Надо иметь в виду всё перечисленное.

#### Вопрос 56.

В каком из перечисленных случаев водителю следует оценивать обстановку сзади?

1. Только при резком торможении.
2. Только при торможении на дороге с мокрым или скользким покрытием.
3. При любом торможении.

#### Вопрос 57.

Как влияет длительный разгон транспортного средства с включённой первой передачей на расход топлива?

1. Расход топлива увеличивается.
2. Расход топлива уменьшается.
3. Расход топлива не изменяется.

#### Вопрос 58.

Какой стиль вождения обеспечит наименьший расход топлива?

1. Частое и резкое ускорение при плавном замедлении.
2. Плавное ускорение при резком замедлении.
3. Плавное ускорение при плавном замедлении.

#### Вопрос 59.

Как влияет алкоголь на время реакции водителя?

1. Время реакции уменьшается.
2. Время реакции увеличивается.
3. Алкоголь на время реакции не влияет.

#### Вопрос 60.

Как влияет утомление водителя на его внимание и реакцию?

1. Внимание притупляется, время реакции уменьшается.
2. Внимание притупляется, время реакции увеличивается.
3. Внимание не изменяется, время реакции увеличивается.

#### Вопрос 61.

### **Каковы типичные признаки наступившего утомления водителя?**

1. Сонливость, вялость, притупление внимания.
2. Возбужденность, раздражительность.
3. Головокружение, резь в глазах, повышенная потливость.

### **3. УЧЕБНО-МЕТОДИЧЕСКОЕ И ИНФОРМАЦИОННОЕ ОБЕСПЕЧЕНИЕ**

#### ***Основные источники:***

1. Громоковский Г.Б., Багманов С.Г., Репин Я.С. Экзаменационные билеты для приема теоретических экзаменов на право управления транспортными средствами категорий «А» и «В» (в новой редакции) с комментариями. М.: Рецепт - холдинг, 2013-224 с.: ил.;
2. Правила дорожного движения. Официальный текст, ООО «Атберг 98», 2013;
3. В.В. Шаховец, А.В. Виноградов. Первая медицинская помощь в чрезвычайных ситуациях, М.: Военные знания, 2000;
4. Пугачев И.Н. Организация и безопасность дорожного движения: учеб.пособие для студ.высш.учеб.заведений/ И.Н. Пугачев, А.Э.Горев, Е.М.Олешенко. – М.: Издательский центр «Академия», 2009.-272 с.



## Нормативная и законодательная

1. Технический регламент о безопасности колесных транспортных средств. Постановление Правительства Российской Федерации от 10 сентября 2009 г. №720.
2. Федеральная целевая программа «Повышение безопасности дорожного движения в 2013-2020 годах»
3. Постановление Правительства РФ от 12 октября 2005 г. №609 « Об утверждении специального технического регламента « О требованиях к выбросам автомобильной техникой, выпускаемой в обращение на территории Российской Федерации, вредных (загрязняющих) веществ»

### *Дополнительные источники:*

Интернет ресурсы:

1. <http://xn--80aaagl8ahknbd5b5e.xn--p1ai/>
2. [www.shans-a.ru/video-lekcii-po-pdd-1](http://www.shans-a.ru/video-lekcii-po-pdd-1)